


# Boqonnaa 10

## MAALLAQA ITOOPHIYAA



### 10.1 Dinaarotaa fi Nootiiwwan

#### Gocha – 1























Gocha – 1 Haala fakkeenya kennameetiin walitti firoomsuu.






























## 10.2 Hariiroo saantimaa fi Qarshii

### Gilgaala - 1

 +  = 15 S	 +  +  = ____ S
 +  = ____ S	 +  +  +  = ____ S
 +  = ____ S	 +  +  +  +  = ____ S
 +  = ____ S	

### Gilgaala - 2

**Gilgaala - 1** Saantimoota ida'uu.

**Gilgaala - 2** Walitti firoomsuu.





Gocha – 2



Gocha – 2

Noottiiwwan addaan baafachuu fi maqaa (gatii) isaanii himuu.

**Gilgaala – 3**

Daraartuu



Caaltuu



Tolaa




Beekaa

**Gilgaala – 3** Beekaan saantima meeqa qaba?

- Abbaa saantima 50 qofa kan qabu eenyu?
- Abbaa saantima 5 baayyee kan qabu eenyu?
- Abbaa saantima 25 baayyee kan qabu eenyu?
- Abbaa saantima 10 kan hin qabne eenyu?
- Abbaa qarshii 1 kan qabu eenyu?





## Gilgaala – 4



Qarshii 5



Qarshii 2



Qarshii 1



Qarshii 2



Qarshii 4



Saantima 50

## Gilgaala – 4

Gatiin dabtara 1 fi qubeessaa 1 meeqa?  
Gatiin dabtara 3 fi qalama 2 meeqa ta'a?