

ምዕራፍ 8

መስመሮችና ቀላል ምስሎች

8.1 ቀጥታና ጥምዝ መስመሮች

የቡድን ሥራ 1

በየቡድናችሁ በመሆን የሚከተሉትን ተወያዩባቸው። የተስማማችሁበትን ሃሳብ ለመምራችሁ አቅርቡ።

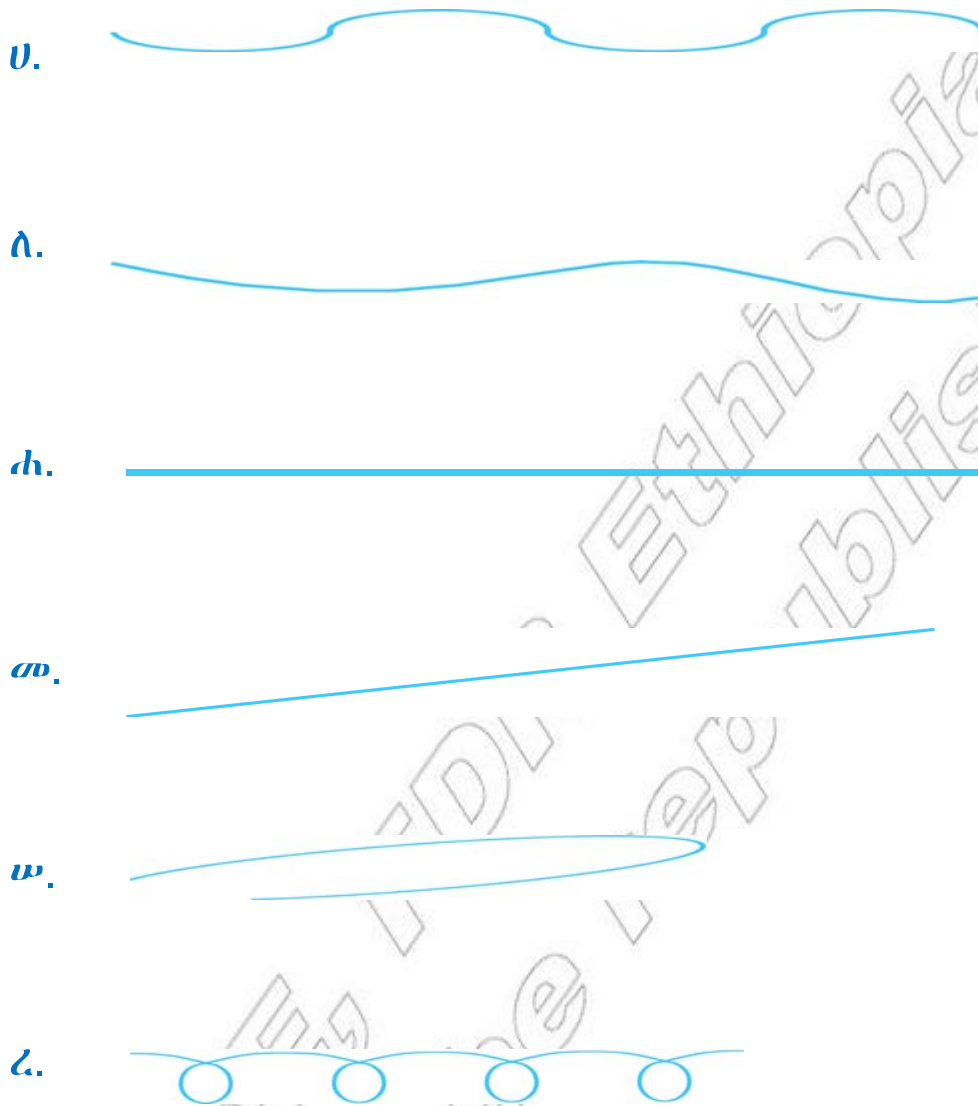
1. ረጅም ክር ውሰዳና አንዱን ጫፍ አንዳችሁ ሌላውን ጫፍ ሌላው ዓደኛችሁ ይዛችሁ ሳይበጠስ በአየር ላይ ወጥሩት። ምን አይነት መስመር አገኛችሁ?



2. ከመኖሪያ ቤታችሁ እስከ ትምህርት ቤታችሁ የመጣችሁበት መንገድ ምን አይነት ነው? ጠመዘማዛ ወይስ ቀጥታ?

3. በመጫዎቻ ሜዳ ውስጥ ሁለት ትንንሽ ድንጋዮችን ለምልክት አኑሩ። በምልክቶቹ መሀል ያለው ርቀት በአንዳችሁ 5 እርምጃ ይሁን። በሁለቱ ምልክቶች መካከል በእንጨት መሬት ለመሬት አስምራችሁ አገናኙ። አሁን ያገኛችሁት ጥምዝ ወይስ ቀጥታ መስመር ነው?

1. ከሚከተሉት መስመሮች ጥምዝ የሆኑትን ለዩ።



2. በደብተራችሁ ላይ ሁለት ጥምዝና ሁለት ቀጥታ መስመሮችን ሳሉ።

8.2 ቀላል ምስሎች

የቡድን ሥራ 2

የሚከተሉትን ጥያቄዎች በቡድን ተወያዩባቸው፤ የተስማማችሁበትን ሐሳብ ወይም የሰራችሁትን ለመምህራችሁ

1. ቀጥለው ያሉትን ምስሎች ተመልከቱ። የሚከተሉትንም ጥያቄዎች ተወያዩባቸው።



ሀ. የሐሳብ መጽሐፋችሁ ቅርፅ ከነዚህ ምስሎች የትኛውን ይመስላል?

ለ. የክፍላችሁ ወለል ጠርዝስ ከየትኛው ምስል ጋር ይመሳሰላል?

ሐ. በመኖሪያችሁ አካባቢ ከነዚህ ምስሎች ጋር የሚመሳሰሉ ነገሮች ካሉ ዘርዝሩዋቸው።

መ. ወረቀት ወይም ክላሴር በመጠቀም ከላይ ያሉትን ምስሎች አስመስላችሁ ቆርጣችሁ አውጡ።

ሰ. የማስመሪያ ጠርዝ እንዲሁም በሳንቲም ዲናር ጠርዝ በመታገዝ ከላይ የተሰጡትን ምስሎች አስመስላችሁ ሳሉ።

አስተውሉ ከላይ በተሰጠው የቡድን ሥራ የተሰጡት ሦስቱም ምስሎች ስም አላቸው።

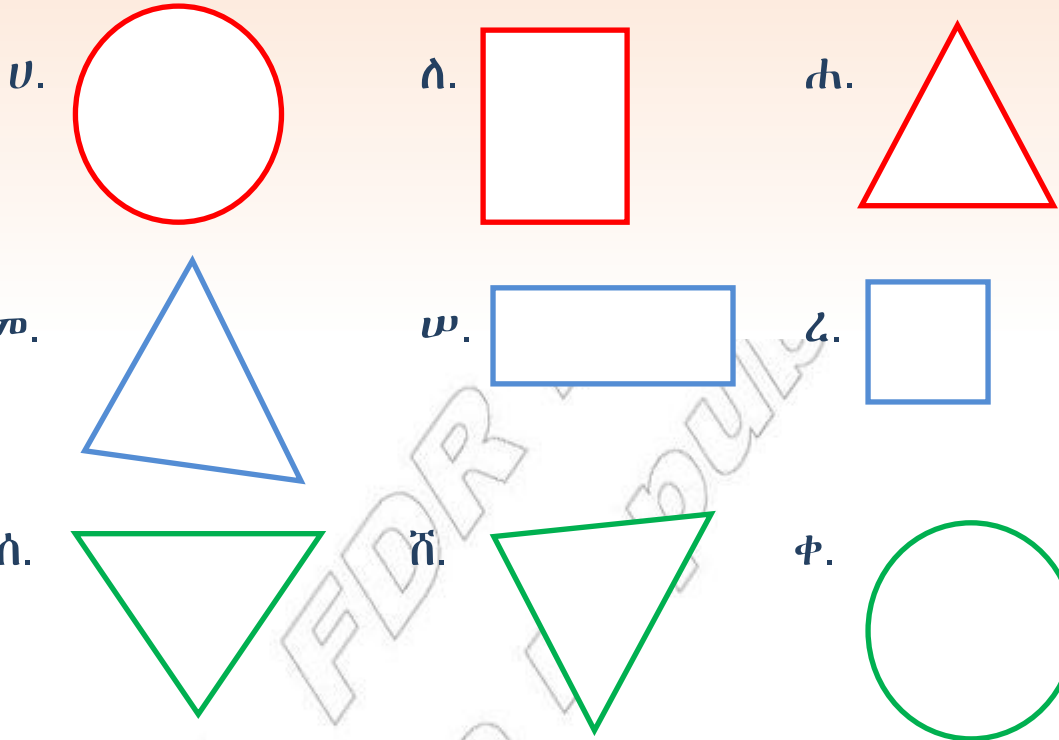
በምስል ሀ የሚታየው ጎን ሦስት ይባላል።

በምስል ለ የሚታየው ጎን አራት ይባላል።

በምስል ሐ የሚታየው ክብ ይባላል።

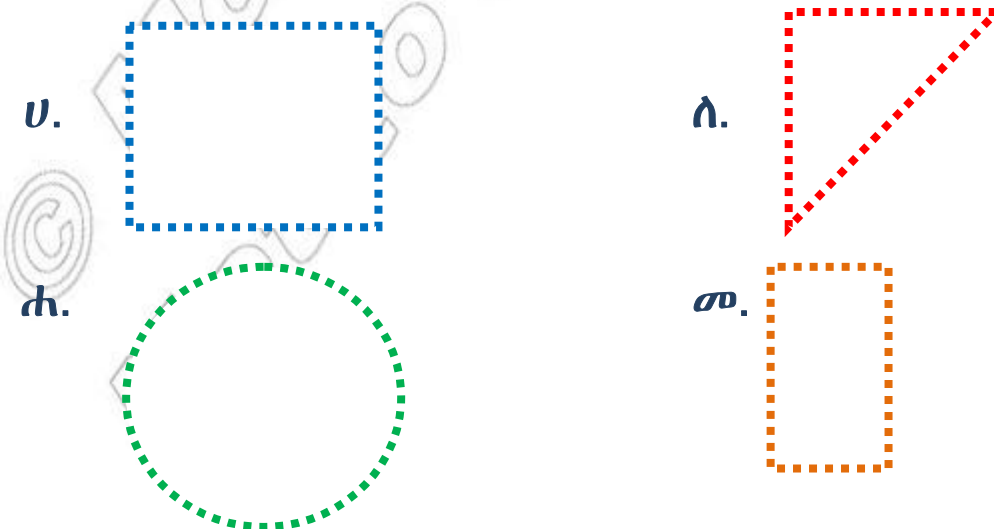
የማጠቃለያ መልመጃ

1. ከሚከተሉት ምስሎች መካከል የትኞቹ ጎን ሦስት፣ የትኞቹ ጎን አራት እና የትኞቹ ክብ እንደሆኑ ለዩ።

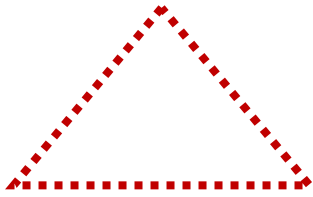


2. በደብተሮቻቸው ላይ ሁለት የጎን ሦስት ምስሎች፣ ሁለት ጎን አራት ምስሎች እና ሁለት የክብ ምስሎችን በመሳል አሳዩ።

3. ነጠብጣቦችን በማያያዝ የሚገኘውን ምስል በመለየት ግለጹ።



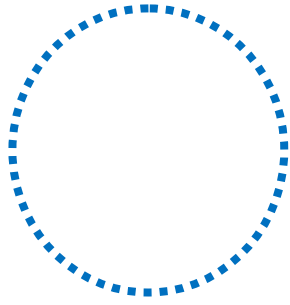
ሠ.



ረ.



ሸ.



ቀ.



ቦ.



ተ.



© MOE, FDI, Ethiopia
Not to be republished