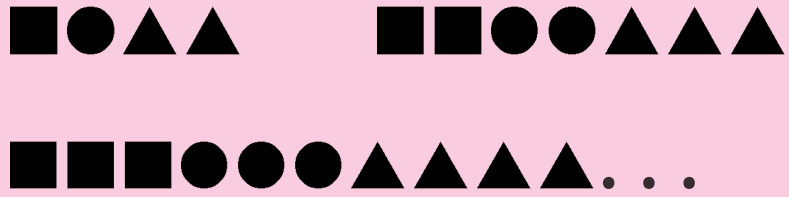


ምዕራፍ



ከይዲ ስርዓትን ነተሐሕዛን መረዳኝታ


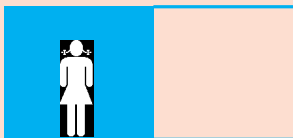
9.1 ምእካብ ቀሲፅ መረዳኝታ

ንጥፈት 1

ነዞም ምስልታት ብምርኣይ ዘስዕቡ ሕቶታት መጠሉ።




ሀ. በዝሓም ኣብ ሳፁን ግለፁ?




ለ. በዝሓ ደቂ ተባዕትዮ ካበ በዝሓ ደቂ ኣንስትዮ ብኸንደይ ይበልፅ?

ሐ. ክልተ ደቂ ኣንስትዮ ተወሲኸን ኣለዎ።



ሐዚ ብጠቐላላ ክንደይ ደቂ ኣንስትዮ ኣለዎ?



ንጥረት 2

ተምሃሮ ነዞም ዘስዕቡ ሕቶታት መበገሲ ገደርኩም መረዳኛታ ኣክቡ።

- በዝሒ ኣባላት ስድራ ቤትኩም?
- ኣብ ስድራኹም ኣብ በዝሒ ደቂ ተባዕትዮን በዝሒ ደቂ ኣንስትዮን መን ይበልፅ?
- ኣብ ገዛኹም ዘለዉ እንስሳ ዘቤት ዘርዝሩ።

መልመዲ 1

ነዚ ሰደጃ መበገሲ ገደርኩም ነቶም ዘስዕቡ ሕቶታት መልሱ።

ዓይነት ፍራፍረ	ሙዝ	ኣናናስ	ኣራንሺ	ኣቮካዶ
በዝሒ ተጠቀምቲ	7	3	9	5

1. በዝሒ ኣራንሺ ዝጥቀሙ ተምሃሮ? _____
2. በዝሒ ሙዝ ዝጥቀሙ ተምሃሮ? _____
3. ዝበዝሑ ተምሃሮ ኣናናስ እዮም ዝጥቀሙ። ሓቂ/ሓሶት

9.2 ሰደጃ ቀሲል መረዳኛታ



1. ነዞም ስእልታት ብምስሎም ወደቡ።
 በዝሒ ትርብዒት -----
 በዝሒ ስሉስ ኩርናዕ -----
2. ነዞም ስእልታት ብመንፅር ሕብርም ወደቡ።
 በዝሒ ቀይሕ ሕብሪ ዝተቐለመ ምስሊ -----
 በዝሒ ቀለም ዘይተቐለመ ምስሊ -----
3. ነቲ ዘሰራሕኩምዎ ኣብዚ ዘስዕብ ሰደጃ ኣስፍሩ።

	ዝተቐብኦ	ዘይተቐብኦ
በዝሒ ትርብዒት		
በዝሒ ስሉስ ኩርናዕ		


9.3 ቀሊል ስርዓት ቁፅርታትን ቅርፅታትን

ንጥፈት 3

ተምሃሮ ኣብ ክባቢኹም ዘርከቡ ዝተፈላለዩ ቅርፅታት ዘርዘሩ።

➤ ነቶም ቅርፅታት ሰለስተ ግዘ ብዘተፈላለዩ ኣገባብ ስርዑዎም።

ኣብነት



➤ ነቶም ቅርፅታት ኣዋዊስኩም ስርዑዎም።

ኣብነት



መስመዲ 2

ነዞም ዘስዕቡ ሕቶታት ምልኩ።

ሀ. ▲▲፣ ▲▲፣ ▲▲፣ _____፣ _____፣ _____

ለ. ■●●▲፣ ■●●▲፣ ■ _____፣ _____፣ _____

ሐ. 1፣ 3፣ 5፣ _____፣ _____፣ _____፣ _____

መ. 2፣ 4፣ 6፣ _____፣ _____፣ _____፣ 14፣ _____