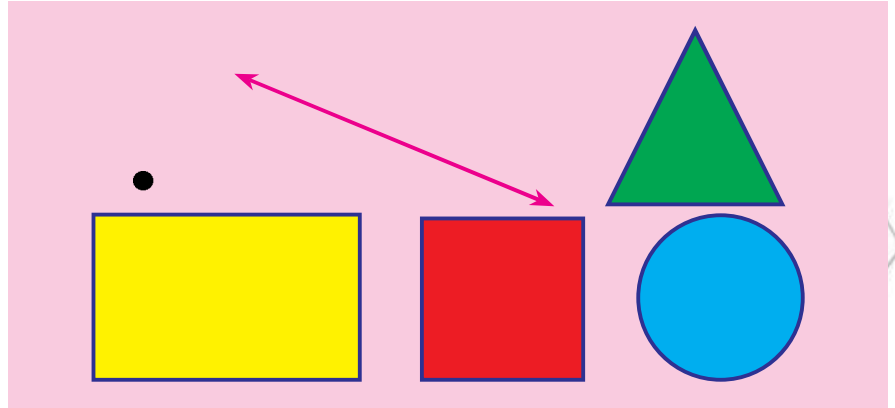


ምዕራፍ



ነጥብታት፣ መስመራትን ቅርፅታትን

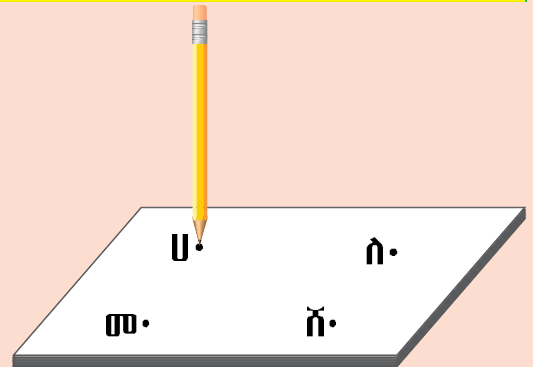
6.1 መስመሪ ብምጥቃም መስመር ምሕንጻፅ

6.1.1 ድግማ ነጥብን መስመርን

ንጥፈት 1

ብጫፍ እርሳስ ኣብ ደፍተርኩም ትኸሉ።

- እትረኽብዎም ነጥብታት ብዝደለኹምዎ ፊደል ሰይሙ።



መስመዲ 1

1. ሕድሕድ ነጥቢ ብመስመር ብምርኻብ ኣብ ጎኒ ዝተውሃበ ፊደል ኣብ ደፍተርኩም ስርሑ።

⋮ ⋮ ⋮	ወ	⋮ ⋮ ⋮	ሸ
⋮ ⋮	ቦ	⋮ ⋮	ሰ
⋮ ⋮ ⋮	ቸ		

ምዕራፍ 6 ነጥብታት፣ መስመራትን ቅርፅታትን

2. አብ ታሕቲ ነጥብታት ተዋሂቦም አለዉ። ሕድ ሕድ ክልተ ነጥቢ ብመስመሪ እናራኽብኩም አብ ደፍተርኩም ስርሑ።

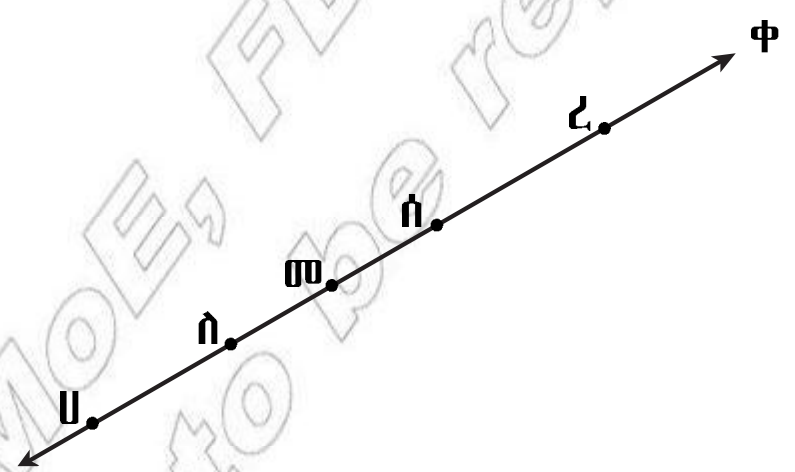
ሀ.	ለ.	ሐ.
ሀ •	ሰ •	ተ •
ሰ •	ሸ •	ኘ •
መ •	ቀ •	ቸ •
	ባ •	ኸ •

3. አብ ቁፅሪ 2 (ሀ፣ ለ ን ሐን) ዝተውሃቡ ነጥብታት ብምርኻብ ክንደይ መስመራት ሰሪሕኹም?

6.1.2 ርክብ ነጥብን መስመርን

ኣብነት 1

ነዚ ዘስዕብ ቅነዕ መስመር 'ቀ' ረኣዩ።

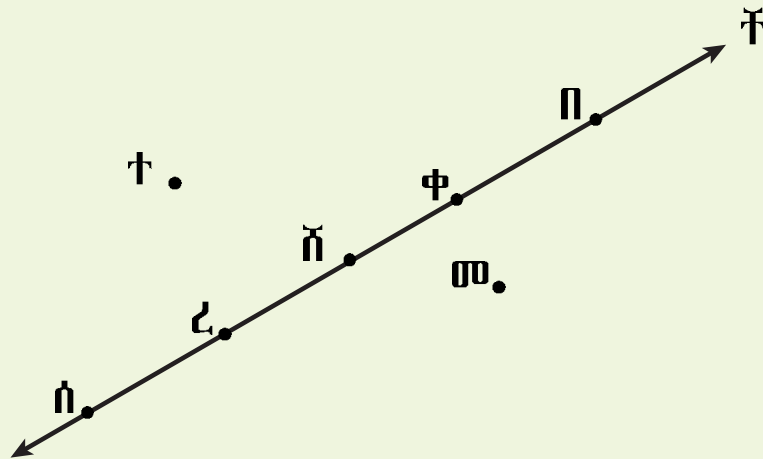


- ነጥብታት ሀ፣ ለ፣ መ፣ ሰን ረን አብቲ ቅነዕ መስመር 'ቀ' እዮም ዝርከቡ።
- ቅነዕ መስመር 'ቀ' ብነጥብታት ሀ፣ ለ፣ መ፣ ሰን ረን ይሓልፍ።
- ነጥቢ 'ሰ' አብ መንጎ ነጥብታት 'ሀ'ን 'መ' ን ይርከብ።

መጠሪያ 2

በመጠሪያ ቤቅ ስርዓት ለግምገማ ዓይነት ጥያቄ መጠሪያ::

1.



- ሀ. _____ ፣ _____ ፣ _____ ፣ _____ ን _____ ን አብ ቅጥጥ መስመር 'ቸ' ዝርከቡ ነጥብታት እዮም::
- ለ. ቅጥጥ መስመር 'ቸ' ብነጥብታት _____ ፣ _____ ፣ _____ ፣ _____ ን _____ ን ይሓልፍ::
- ሐ. ነጥቢ ሸ አብ መንጎ ነጥብታት _____ ን _____ ን ይርከብ::
- መ. ነጥቢ ተ ካብ ቅጥጥ መስመር ቸ ብላዕሊ ገፅ ይርከብ:: ነጥቢ መ ድማ ካብ ቅጥጥ መስመር ቸ ብ_____ ገፅ ይርከብ::

2.

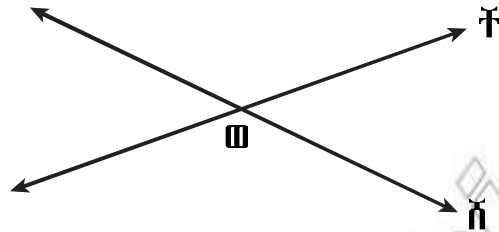


- ሀ. _____ ፣ _____ ፣ _____ ን _____ ን አብ ቅጥጥ መስመር ኣ ዝርከቡ ነጥብታት እዮም::
- ለ. ቅጥጥ መስመር ኣ ብነጥብታት _____ ፣ _____ ፣ _____ ን _____ ን ይሓልፍ::
- ሐ. ነጥቢ 'ሰ' አብ መንጎ ነጥብታት _____ ን _____ ን ይርከብ::
- መ. ነጥብታት _____ ን _____ ን አብ መንጎ ነጥብታት ሀን ሰን ይርከቡ::

6.1.3 ርክብ ቅኑዕ መስመራት

ኣብነት 2

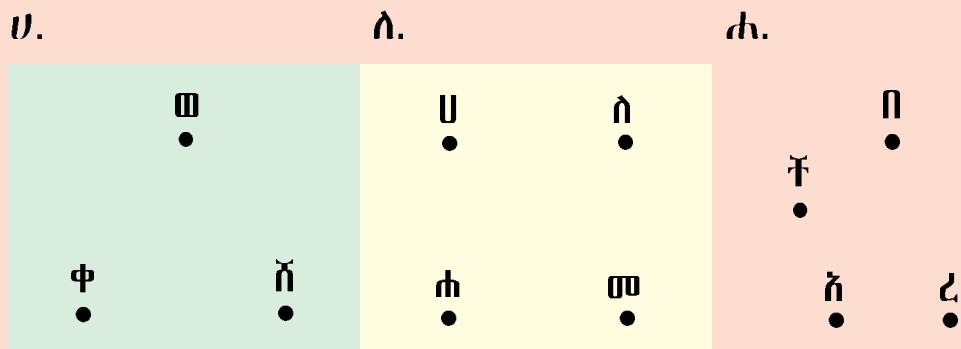
ነዞም ዝስዕቡ ክልተ ቅኑዕ መስመራት 'ቸ'ን 'ሸ'ን ርክቡ።



ክልቲኦም ቅኑዕ መስመራት ኣብ ነጥቢ 'ወ' ይራኽቡ። ስለዚ 'ወ' መራኽቢ ነጥቢ መስመራት 'ቸ'ን 'ሸ'ን ይበሃል።

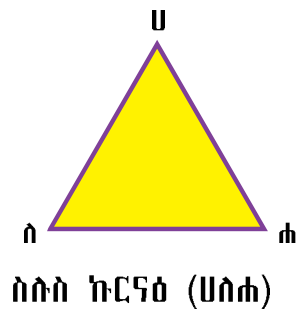
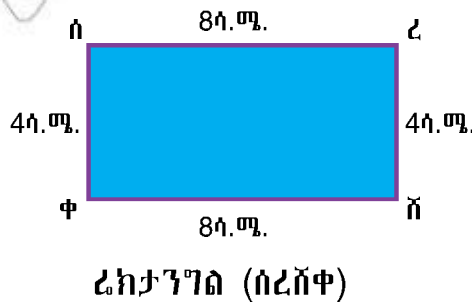
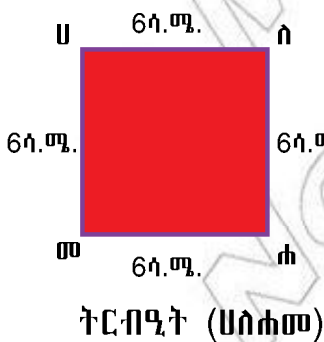
ንጥፋት 2

ንሕድ ሕድ ነጥብታት ዘራኽቡ ቅኑዕ መስመራት ስርሑ።



6.2 ፊክታንግል፣ ትርብዒት፣ ስሉስ ኩርናዕን ክብን

ኣብነት 1 ነዞም ዝስዕቡ ምስልታት ኣስተውዕሉ።




መስመዲ 3

ነዞም ዝስዕቡ ስርሐ

- 1. ሀ. ንውሓት ጎኑ 8 ሳ.ሜ ዝኾነ ትርብዒት ስኣሉ።
- ለ. ንውሓት ጎንታቱ 5 ሳ.ሜን 7 ሳ.ሜ ን ዝኾነ ሬክታንግል ስኣሉ።
- ሐ. ንውሓት ጎንታት ሓደ ስሉስ ኩርናዕ ዓቕኑ።

2. ነዞም ዝስዕቡ ምስልታት ስኣሉ። ስሞም እውን ግለፁ።

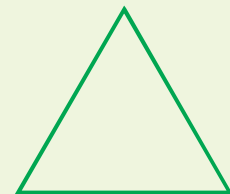
ሀ.




ለ.



ሐ.




መ.



ረ.

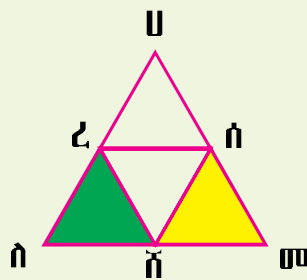


ሰ.



3. ንውሓት ጎንታት እቶም ኣብ ላዕሊ ዘለዉ ምስልታት ዓቕኑ።

4. ሀ. ኣብዚ ምስሊ ዘለዉ ስሉስ ኩርናዓት ሰይሙ።



ኣብነት፡- ስሉስ ኩርናዕ ሀረሰ

ስሉስ ኩርናዕ _____ ፣ _____ ፣ _____ ፣ _____ ፣ _____

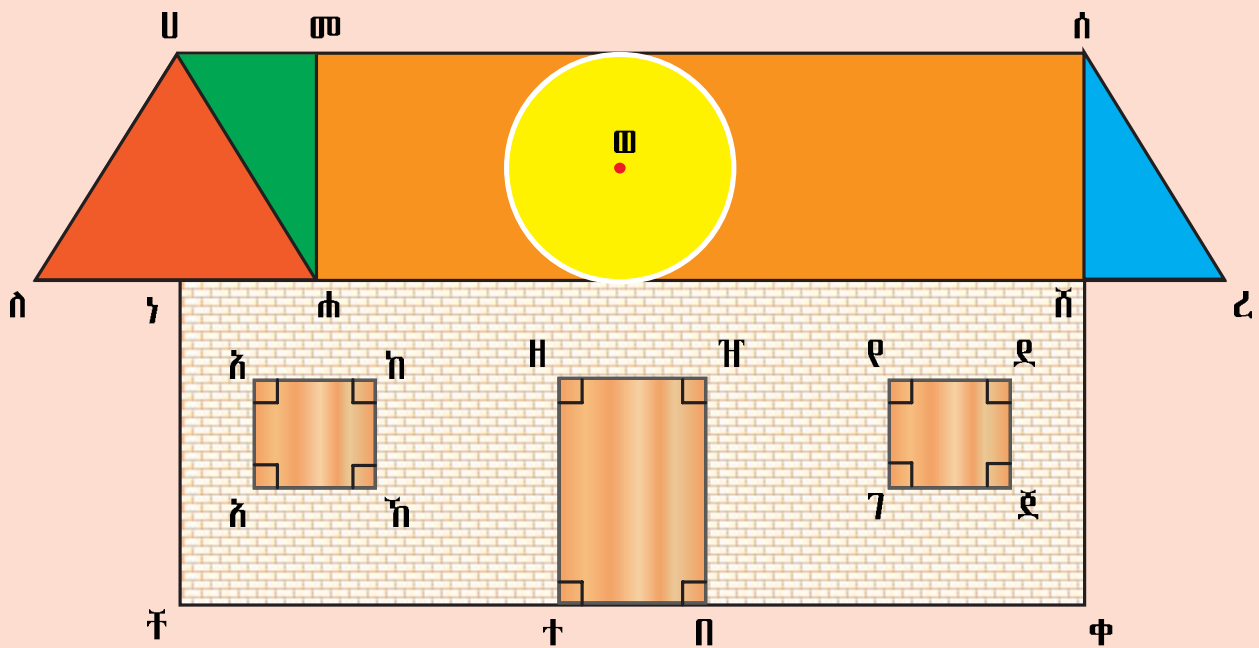
ለ. እቶም ብሕብሪ ዝተለኸዩ ስሉስ ኩርናዕ _____ ን _____ እዮም።

5. ሳንቲም፣ ፈትሊ፣ ቅርፃ ክቢ ዘለዎም ነገራት ብምጥቃም ክቢ ሰኣሉ።

6.3 ኣብ ከባቢ ዝርከቡ ቅርፅታት

ንጥፈት 3

1. ኣብዚ ምስሊ መንበሪ ገዛ ዘለዉ ቅርፅታት ፊክታንግል፣ ትርብዒት፣ ስሉስ ኩርናዕን ክብን ዘርዝሩ።



መስመዲ 4

1. ኣብ መምሃሪ ክፍልኹም ዝርከቡ ዝተፈለገዎ ምስልታት ዘርዝሩ።
2. ኣብ መምሃሪ ክፍልኹም ክንደይ ፊክታንግላት ኣለዉ?
3. ኣብ ሜዳ መግዑቲ ኩዕሶ እግሪ ክንደይ ፊክታንግል፣ ትርብዒትን ክቢን ኣለዉ?

© M...
Not to be