

Boqonnaa

8



YEROO

## 8.1 YEROO SA'AATIIN, WALAKKAA SA'AATII FI KURMAANA SA'AATIIN HIMUU

### GOCHA 8.1

- 1 Ganama sa'aatii meeqatti gara mana barumsaa deemta?
- 2 Barumsi ganama sa'aatii meeqatti eegala?
- 3 Mana barumsaa keetii hamma manaatti sa'aatii meeqa deemta?

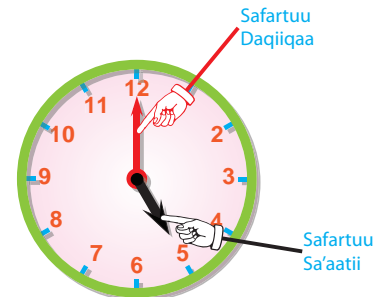
### MODEELOTA SAFARA SA'AATII

- 1 Kan gara mirgaa fakkii meeshaa sa'aatii ittiin safarruu dha.

Meeshichis sa'aatii jedhama.

Meeshaa kana irratti xiyya gabaabaa furdaa fi xiyya qallaa dheeraatu mul'ata.

- xiyyi dheeraan daqqiqa agarsiisa.
- xiyyi gabaabaan sa'aatii agarsiisa.



2 Kan gara mirgaa fakkii meeshaa safara sa'aatiiti.

Kana irraa sa'aatii himuuf dubbisuu qofa. Fakkeenyaaf fakkii kenname irratti 6:00 agarsiisa. Yommuu dubbifamus, sa'aatii ja'a jedhameeti.



## Fakkeenya 1

Meeshaa kenname irratti xiyyi sa'aatii gara 5 agarsiisa. Kan daqiiqaa immoo 12 agarsiisa.

Kunis sa'aatii 5 agarsiisa.



yommuu  
dubbifamu

Sa'aatii 5

Yommuu  
barreeffamu

5 : 00  
Sa'aatii Daqiiqaa

## Hubadhu

*Xiyyi sa'aatiis ta'ee kan daqiiqaa bitaa irraa gara mirgaatti naanna'u. Bakki ka'umsa isaanii 12 irraati. Xiyyi daqiiqaa 12 irraa gara 1 tti yoo naanna'e, daqiiqaa 5 adeeme. 12 irraa gara 3tti yoo naanna'e daqiiqaa 15 adeeme. Lakkoofsota walitti aanan lamaan jidduu daqiiqaa 5tu jira.*

## Fakkeenya 2

xiyyi sa'aatii 2 agarsiisa. Kan daqiiqaa immoo 3 agarsiisa.

Kanaafuu, daqiiqaan  $3 \times 5 = 15$  agarsiisa.

Kunis, sa'aatii 2 fi kurmaana jedhama.



Yoo  
dubbifamus

Sa'aatii lamaa  
fi kurmaana

Yoo barreeffamu

2 : 15

## Fakkeenya 3

Xiyyi sa'aatii 3 irra dabree agarsiisa. Kan daqiiqaa immoo 6 agarsiisa. Kanaafuu, daqiiqaa  $6 \times 5 = 30$ .

Kunis sa'aatii 3 fi walakkaadha.



3:30

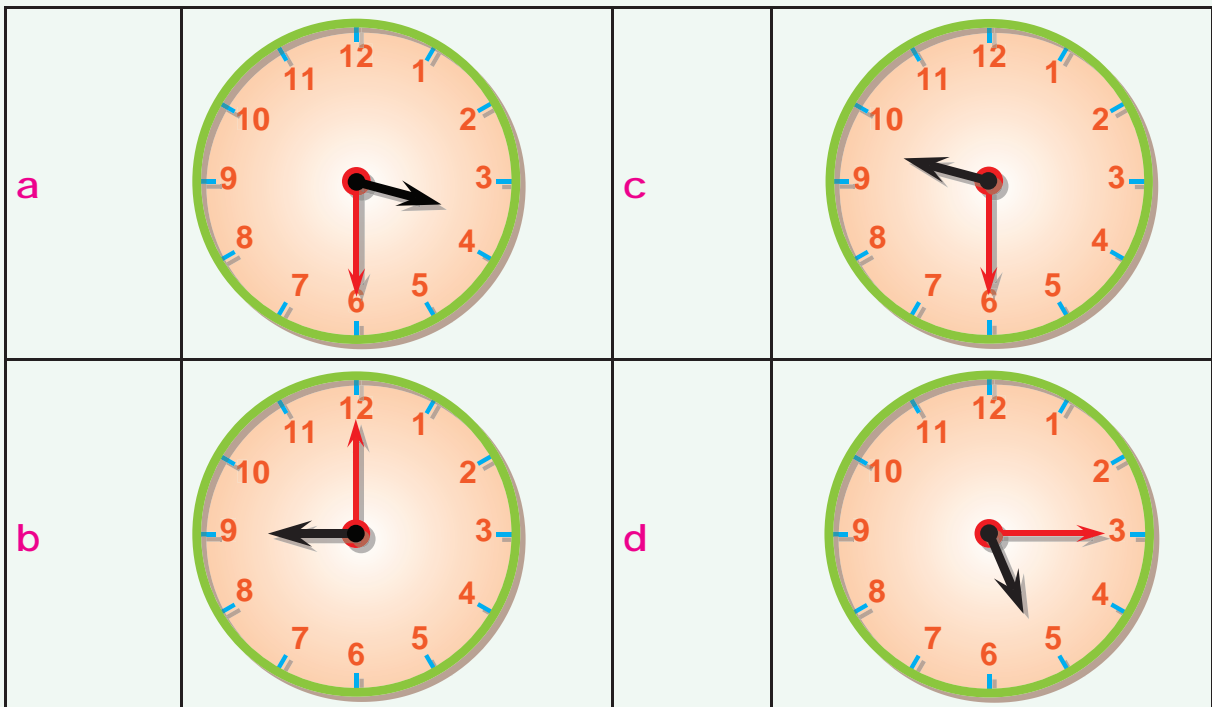
Yoo dubbifamus

Sa'aatii sadii fi walakkaa

Yoo barreeffamu

### GILGAALA 8.1

- 1 *Fakkiwwan sa'aatii armaan gadii sa'aatii meeqaa fi daqiiqaa meeqa akka agarsiisan barreessi.*



2 *Yeroo kenname xiyyoota sa'aatii fi daqiiqaa hojjechuun agarsiisi.*

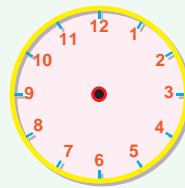
a 12:00



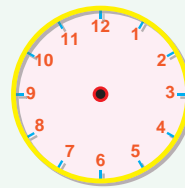
b 4:15



c 5:30



d 8:00



3 *Walitti Firoomsii.*

1 5:15

A



2 9:30

B



3 5:00

C



4 2:15

D



5 3:30

E



## 8.2 SA'AATII FI DAQIIQAA

### GOCHA 8.2

Sa'aatii 1 keessa daqiiqaa meeqatu jira?

Sa'aatii fi daqiiqaan yuunitoota safara yerooti.

<p>Sa'aatiin 1 = Daqiiqaa 60.</p> <p>Walakkaan sa'aatii = Daqiiqaa 30</p> <p>Kurmaanni sa'aatii = Daqiiqaa 15</p>	
---	--

### GILGAALA 8.2

1 *Kanneen armaan gadii daqiiqaa meeqa meeqa ta'u?*

- a Sa'aatiin 1 = Daqiiqaa \_\_\_\_\_.
- b Sa'aatii Walakkaan = Daqiiqaa \_\_\_\_\_.
- c Sa'aatii Kurmaanni = Daqiiqaa \_\_\_\_\_.

2 *Bakka duwwaa guuti*

- a Daqiiqaan 60= Sa'aatii \_\_\_\_\_.
- b Daqiiqaan 30= \_\_\_\_\_ Sa'aatii.
- c Daqiiqaan 15= \_\_\_\_\_ Sa'aatii.