

## Boqonnaa

7



## MAALLAQA

**7.1** YUUNITOOTA MAALLAQAA WALITTI JIJJIIRUU

Dinaarota Maallaqa Itoophiyaa



Saantiima 1

Saantiima 5

Saantiima 10

Saantiima 25

Saantiima 50

Qarshii 1

Noottota maallaqa Itoophiyaa



Qarshii 5


Qarshii 10

Qarshii 50

Qarshii 100


**Gocha 1**

- 1 Hariiroo dinaaroota noottiiwwan Itoophiyaa irratti mari'adhaatii walitti dhufeenya isaan gidduu jiru dabaree dabareedhaan ibsaa.
- 2 Maallaqa kennaman gara sharafa xixiqqaatti jijjiiraa.




Qarshiin dhibba 1

= Noottii qarshii shantamaa meeqa?



Noottiin qarshii 50

= Noottii qarshii 10 meeqa?



Noottiin qarshii shanii tokko

= noottii qarshii 1 meeqa?



Qarshiin1

= Dinaarii saantima10 meeqa ta'a?

Ayyaantuun saantiima 97 abbaan ishee kennaniif akka armaan gaditti kennametti akka jijjiirrachuu dandeessu hubatte.



Danaan kun:

Saantiima Ayyaantuu 97 kana saantiima 25, saantiima 10, saantiima 50 saantiima 5 fi saantiima 1tti gargaaramuun haala itti jijjiiruun danda'amu barbaadaa.









Saantima Ayyaantuu 97 kana saantima 25, 10 fi 1 tti fayyadamuun haala itti sharafuun danda'amu karaa biroo barbaadaa.

©  
Not

**Gilgala - 1**

1 Nootii maallaqa armaan gaditti kenname gara sharafa barbaadameetti jijjiiri.

a

		
 _____	 _____	 _____
Qarshii	Qarshii	Qarshii

b

		
 _____	 _____	 _____
saantiima	saantiima	saantiima

© MCTO  
Not to

c



2 Gaaffilee armaan gadii deebisi.

- a Qarshiin sadii saantiima 25 meeqatti jijjiirama?
- b Qarshiin 10 saantiima 50 meeqatti jijjiirama?
- c Qarshiin 5 saantiima 10 meeqatti jijjiirama?
- d Qarshiin 2 saantiima 5 meeqatti jijjiirama?
- \*e Qarshiin 2 fi saantiimni shantamni dinaarii 25 meeqatti jijjiirama?

3 Maallaqa armaan gaditti kennaman karaa itti jijjiiruun danda'amu lama barbaadi.

- a Qarshii 3
- b Qarshii 74
- c Saantiima 55
- d Saantiima 68
- e Saantiima 26
- \*f Qarshii 1 fi saantiima 25

© M  
Not to

## 7.2 PIROBILEMOTA JECHAA

### Gocha 2



Haqxuu  
qubeessaa  
Saantiima 30



Qubeessaa  
Qarshii 1





Barruulee (Dabtarii)  
Qarshii 2 fi Saan-  
tiima 50



Peennaa  
Qarshii 1fi  
Saantiima 80

qartuu  
qubeessaa  
Saantiima 65

- 1 Meeshaalee armaan gadii bituuf maallaqa barbaachisu shallagi.



- 2 Barruulee 1, qubeessaa 1fi peennaa 1 yoo bitte, qarshii fi saantiima meeqa kaffalta?
- 3 Qartuu qubeessaa 1, haqxuu 1fi qubeessaa 1 yoo bitte qarshii fi saantiima meeqa kaffalta?
- 4 Qarshii 5 yoo qabaatte meeshaalee armaan olii keessaa maalfaa akka bitachuu dandeessu barreessi.

- 5 Wayyeessaan qarshii 2 qaba. Peennaa tokko yoo bitate deebii meeqa argata?
- 6 Haqxuu 1 fi qartuu qubeessaa 1 bittee qarshii 1 yoo kafalte saantiima meeqatu siif deebi'a?
- 7 Moosisaan dinaarii saantiima 50 sadii, dinaarii saantiima 10 shanii fi dinaarii saantiima 5 shan qaba. Barruulee tokko bitachuuf dinaarii meeqa isa barbaachisa?

### Gilgaala - 2

Yeroo ta'etti suuqii waldaa gamtaa maa'i baasii tokko keessa gatii biqiltuu adda addaa akka gabatee armaan gadiitti kennamerratti mul'atu.

Gosa ashaakiltii	Gatii 1kg
1 Gatiin timaatimii 2kg meeqa?	
2 Dinnicha 1kg fi qullubbii diimaa 1kg yoo bitte meeqa kaffalta?	Qarshii 5
3 Gatiin timaatimii 1kg, dinnicha 1kg fi qaaraa 1kg walitti meeqa ta'a?	Qarshii 4
4 Gatiin qullubbii diimaa 1kg fi qaaraa 1kg meeqa ta'a?	
5 Gatiin dinnicha walakkaa kiloogiramii tokkoo meeqa?	Qarshii 6 fi saantiima 50
	Qarshii 1 fi saantiima 25
6 Bariisoo qarshii 1 qaba. Saantiima 78'n yoo akaawwii bitate, saantiima meeqatu isaaf hafe?	
7 Waamiin dinaarii saantiima 25 sadii qaba. Saantiima 60'n yoo kophee haxoofsifate saantiima meeqatu hafaaf?	
8 Dammeen akka uffata mana barumsaa hodhisiifattuuf abbaan ishee qarshii 100 kennaniif. Qarshii 48 wandaboo isaa qarshii 25'n immoo qomee isaa yoo hodhisiifate, qarshii meeqa irraa hambifate?	
9 Caaltuun dinaarii saantiima 25 sadii fi dinaarii saantiima 50 lama qabdi. Qarshii 1 fi saantiima 50'n yoo barruulee bitate, deebii hammam fudhatti?	