

# ምዕራፍ ክስተ መንበሪና ዝኾነት ምድሪ



## ውዕኢታት'ዚ ምዕራፍ

ተምሃሮ ነዙይ ምዕራፍ ምስ ተምሃርኩም:-

- ⊙ ክፍለ ዓለማትን ማደዎ ኣካላትን ዓለምና ተስልዩ፤
- ⊙ ጨው ዘይብሉ ማደን ማደ ባሕርን ተነፃፅሩ፤
- ⊙ ቀንዲ መፍሰይ ገፅታት መሬት ምብራቕ ኣፍሪካ ትገልፁ፤
- ⊙ ፅፍፃፋት ከባቢ ኣየር ተስልዩን ኣካላት ታሕተዋይ ቐፀላ ከባቢ ኣየር ትገልፁን፤
- ⊙ ዘተረጎሰይ ገፅታት መሬት ንምምልካት ካርታ ትነድፉ፤ ከምኡ'ውን ሕብርታት፣ ምልክታትን ምስልታትን ትጥቀሙ።

## ብቕዓታት'ዚ ምዕራፍ

ተምሃሮ ነዚ ምዕራፍ ምስ ተምሃርኩም:-

- ⊙ ክፍለ ዓለማት ትዘርዘሩ።
- ⊙ ውቅያኖሳት ዓለም ትፀርሑ።
- ⊙ ቀንዲ ሬዚካዊ ገፅታት ምብራቕ ኣፍሪካ ተስልዩ።
- ⊙ ረብሓ ዓብይ ሓፃፍ ሸንጥሮ ትገልፁ።
- ⊙ ቃላዎት፣ ረባታትን ባሕርታትን ምብራቕ ኣፍሪካ ትፀርሑ።
- ⊙ ባህርያት ጨውነት ዘይብሉ ማደን ማደ ባሕርን ተነፃፅሩ።
- ⊙ ቁጠባዊ ረብሓታት ማደ ኣብ ምብራቕ ኣፍሪካ ትርድኡ።
- ⊙ ሓደ ሓደ ኣብነታት ቐፀባዊ ረብሓታት ማደ ተስልዩ።
- ⊙ ማደ ስትራቴጂካዊ ረብሓ ከምዘለዎ ትርድኡ።
- ⊙ ፅፍፃፋት ከባቢ ኣየር ተስልዩ።
- ⊙ ኣካላት ታሕተዋይ ቐፀላ ከባቢ ኣየር ትገልፁ።
- ⊙ ፅፍፃፋት ከባቢ ኣየር ትስእሱን ትምደቡን።
- ⊙ ሕብረ ኣብ ካርታ ዘለዎ ረብሓ ተደንቑ።
- ⊙ ኣብ ካርታ እትጥቀሙሎም ስሙዳት ምልክታትን ምስልታትን ተስልዩ።
- ⊙ ሓበሬታ ንምውካስ ነቶም ስሙዳት ምልክታትን ምስልታትን ትጥቀሙ።
- ⊙ ቀሲል ቁፍል ካርታ ተዳልዩ።

መስተዋዊ

አብዚ ምዕራፍ ክልተ ትምህርቲ ሕብረተሰብ 6<sup>ይ</sup> ክፍሊ አብ ሽዱሽተ ንኡስ አርእስቲታት ዝተኸፈለ ኾይኑ ብቐንዱ ግና አብ ክልተ ዓበይቲ ቁምነገራት ዝጠመተ'ዩ። ንሳቶም ድማ አብታ መንበሪና ዝኾነት ምድርን አብ ምንባብ ካርታን ጠመተ ዝገበሩ'ዮም። እቲ ብዛዕባ መንበሪና ዝኾነት ምድሪ ዝምልከት ትሕዝቶ ትምህርቲ አብ ክፍለ-ዓለማት፣ ማያዊ አካላት፣ ቅርፅታት መሬትን ሃፍትታት ማይን ምብራቕ አፍሪካ፣ ፅፍፃፋት ከባቢ አዩርን ዝመሳሰሉን ዝጠመተ'ዩ። እቲ ብዛዕባ ምንባብ ካርታ ዝምልከት ትሕዝቶ ትምህርቲ ድማ ብቐንዱ አብቶም አብ ዝኾነ ካርታ እትርእይዎም ልሙዳት ምልክታትን ምስልታትን ዘድሃበ ኾይኑ ብተወሳኺ'ውን ቁልፊ-ካርታ አዳሊኹም ካርታ ናይ ምስኣል ክእለትኩም እተማዕብልሉን'ዩ። አብዚ ምዕራፍ አዝዮም ብዙሓት መልመድታትን ዝተፈላለዩ ሕቶታትን ምህላዎም ንተምሃሮ ዘተባብዑ'ዮም።

2.1 ገፁ - ምድሪ

ተምሃሮ ምድሪ እንታይ ዓይነት ገፁ ወይ መልክዕ አለዎ? አቀማምጣ፣ አመሓውራን ቅርፅን ምድርና ብሓፈሻ ገፁ-ምድሪ ተባሂሉ ይፅዕዕ። እዚ መልክዕ ወይድማ ገፁ-ምድሪ ብትሕዝትኡ ማይን ደረቕ መሬትን እዩ። ከይኑ ግና ናይ ክልቲኦም ስፍሓት ማዕረ ወይ ተቐራረቢ አይኮነን። ስፍሓት ምድሪ 510 ሚሊዮን ትርብዒት ኪሎ ሜትሮ እዩ። ካብዙይ አስታት 29% ደረቕ መሬት እንትኾን እቲ 71% ድማ ብማያዊ አካላት ዝተሸፈነ እዩ። አብ ሰሜናዊ ንፍቀ ኽቢ መጠን ደረቕ መሬትን ማይን ዳርጋ ማዕረ እዩ። አብ ደቡባዊ ንፍቀ ኽቢ ግና እቲ ብማይ ዝተሸፈነ ክፋል ምድሪ ካብቲ ብመሬት ዝተሸፈነ አዝዮ ዝሰፍሐ እዩ። ኩሎም ዓይነታት ገፁ-ምድሪ አብ ክልተ መቐልካ ምርኣይ ይከኣል'ዩ። ንሳቶም ድማ ክፍለ ዓለማትን ማያዊ አካላትን እዮም።

ተምሃሮ እስቲ ደረቕ መሬትን ማያዊ አካላታን ብኢድኩም እናአመላኽትኩም አብ ካርታ ዓለም አለልዩ?

2.1.1 ክፍለ ዓለማት

ተምሃሮ እቲ ደረቕ መሬት ምድርና ብክፍለ ዓለማት ዝተሸፈነ እዩ። ክፍለ ዓለም እንታይ ማለት እዩ? ክንደይ ክፍለ ዓለማት ትፈልጡ? እስቲ ዘርዝሩዎን?

ተምሃሮ ካርታ 2.1 በምርኣይ ሸውዓተ ክፍለ ዓለማት ከምዘለዎ ተገንዘቡ። ንሳተን ድማ ብስፍሓትን ቅደም ሰዓብ ከምዚ ዝሰዕብ ተዘርዚረን አለዎ።

- 1. እስያ
- 2. አፍሪካ
- 3. ሰሜን አሜሪካ
- 4. ደቡብ አሜሪካ
- 5. አንታርክቲካ
- 6. አውሮፓ
- 7. አውስትራልያ እዩን።

ተምሃሮ ነዚ ዝሰዕብ ካርታ አብ ደፍተርኩም ስኢልኩም ስም ሕድሕድ ክፍለዓለም አብ ትኽክለኛ ቦትኡ ፅሒፍኩም አቐምጡ።



ካርታ 2.1 ክፍለ ዓለማት

ተምሃሮ እስቲ ስፍሐት ደረጃ መሬት ናይዘን ክፍለዓለማት ብመንፅር ሰሜናውን ደቡባውን ንፍቀ-ኸብታት ምድሪ ኣነፃፅሩ። እንታይ ተገንዚብኩም? እወ! ካብ ሓፈሻዊ ስፍሐት መሬት ክፍለ ዓለማት እቲ ክልተ ሲዕ ዝኾን ኣብ ሰሜናዊ ንፍቀ-ኸቢ ምድርና ዝርከብ እዩ።

### 2.1.2 ማያዊ ኣካላት ምድሪ

ተምሃሮ ማያዊ ኣካላት ምድሪ እንታይን እንታይን ዘጠቓለሉ እዮም? እስቲ ካርታ ዓለም እናረኣኹም ተመያየጡሉ።

ማያዊ ኣካላት ዝበሃሉ ብቐንዶም ውቕያኖሳት እዮም። ካልኦት ኣናእሹቲ ማያዊ ኣካላት ድማ ባሕርታት፣ ቻላዶትን ሩባታትን እዮም። ካልኦት ካብዚኦም ፍልይ ዝበሉ ንኣብነት፣ ኣብ ክርሰ ምድሪ ዝርከቡ ማያዊ ኣካላት እውን ኣለዉ እዮም።

### ውቕያኖሳት ዓለም

ተምሃሮ እስቲ ካብ ካርታ ዓለም ክፍለ ዓለማትን ውቕያኖሳትን ፈሊኹም ኣለልዩ? ክንደይ ውቕያኖሳት ኣለሊኹም? ንብዙሕ ዓመታት ኣርባዕተ ውቕያኖሳት ከምዝነበሩ እዩ ዝፍለጥ፣ ዳሓር ግና ደቡባዊ ውቕያኖስ ዝበሃል ሓምሻይ ውቕያኖስ ተለልዩ ተነፂሩ ኣሎ። እቶም ሓሙሻተ ውቕያኖሳት ዓለምና ብመሰረት ስፍሐቶም ብቐደም ሰዓብ ኣብዚ ዝስዕብ ተዘርዚሮም ኣለዉ፡-

- 1<sup>ይ</sup> ሰላማዊ ውቕያኖስ /ፓሲፊክ/
- 2<sup>ይ</sup> ውቕያኖስ ኣትላንቲክ (ሰሜናውን ደቡባውን ኣትላንቲክ)
- 3<sup>ይ</sup> ውቕያኖስ ህንዲ
- 4<sup>ይ</sup> ደቡባዊ ውቕያኖስ (ኣንታርክቲክ)
- 5<sup>ይ</sup> ውቕያኖስ ኣርክቲክ እዮም።

ካብዚኦም እቲ ዝሰፍሐ ሰላማዊ ውቕያኖስ እዩ። ደቡባዊ ውቕያኖስ ዝበሃል ካብ 60° ደቡብ ጀሚሩ ንደቡብ ኣንፈት ዘሎ ሰፊሕ ማያዊ ኣካል እዩ። ገለገለ ክፋል ደቡባዊ ውቕያኖስ ብበረድ ዝተሸፈነ እዩ።



ካርታ 2.2 ውቅያኖሳት ዓለም

### ዕዮ ጉጅለ



ተምሃሮ! ብጉጅለ ኸይንኩም ካርታ ዓለም ብምርኣይ እቶም 5 ውቅያኖሳት ኣበይ ከምዝርከቡ ኣነፅሩ። ብድሕሪዚ ካርታ 2.2 ኣብ ደፍተርኩም ብምስኣል ሓሙሽቲኦም ውቅያኖሳት ኣለሊኹም ትኸክለኛ ሰሞም ኣብ ቦትኦም ፀሓፉዎም። ብምቕፃል ነዞም ዝስዕቡ ሓቅታት ኣብ ካርታ ሪኢኹም ብኢድኩም እናኣመላኸትኩም ብምምይያጥ ኣረጋግፁ።

- ሰላማዊ ውቅያኖስ ንኸፍለ ዓላማት እስያን ኣውስትራልያን ካብ ክፍለ ዓላማት ደቡብን ሰሜንን ኣሜሪካ ዝፈሊ እዩ።
- ውቅያኖስ ኣትላንቲክ ንኸፍለ ዓላማት ደቡብን ሰሜንን ኣሜሪካ ካብ ኣውሮፓን ኣፍሪካን ይፈሊ።
- ውቅያኖስ ህንዲ ኣብ መንጎ ደቡባዊ እስያ፣ ኣፍሪካን ኣውስትራልያን ይርከብ።
- ደቡባዊ ውቅያኖስ ካብ ሰላማዊ ውቅያኖስ፣ ውቅያኖሳት ኣትላንቲክን ህንድን ዝፈልዮ መሬት ዘይብሉ ኣብ ዙርያ ክፍለ ዓለም ኣንታርክቲካ ዝርከብ እዩ።
- ውቅያኖስ ኣርክቲክ ኣብ ሰሜን ኣውሮፓ፣ እስያን ሰሜን ኣሜሪካን ዝርከብ እዩ።

ተምሃሮ! ነዞም ኣብ ላዕሊ ዝተገለፁ ብትኸክል ኣረጋጊፁኩምዶ? ብተወሳኺ ድማ ውቅያኖስ ኣትላንቲክ ደቡብን ሰሜንን ኣትላንቲክ ተባሂሉ ኣብ ክልተ ከምዝምቀልክ ተግዚብኩምዶ? እስቲ ሰሜን ኣትላንቲክን ደቡብ ኣንትላንቲክን ኣበይ ከምዝርከቡ ኣብ ካርታ ደጊምኩም ኣነፅሩ?

### ዓይነታት ማይ

ተምሃሮ ኣብ ዓለምና ዝርከቡ ማያዊ ኣካላት ብኬሚካላዊ ትሕዝተኦም ብሕልፊ ብጣዕሞም ኣብ ክንደይ ክትመቐልዎም ትኸእሉ? እስቲ ተመያየጥሉ። ተምሃሮ ጨው ጨው ዝጥዕም ማይ ደረ ስቲኹም ትፈልጡ?

ብሓፈሻ ኣብ ውቅያኖሳትን ባሕርታትን ዝርከብ ማይ ወድሱብ ዝስተዮ ኣይኮነን። ምክንያቱ ድማ ብኬሚካዊ ትሕዝተኡ ጨውነት ዘለዎ ስለዝኾነዮ። ብኣንፃሩ ድማ ኣብ ክፍለ ዓላማት ዝርከብ ማይ ንኣብነት ኣብ ሩባታት፣ ኣብ ቃላይትን ከርሰ ምድርን ዝርከብ ማይ መብዛሕትኡ ጨውነት የብሉን። ስለዘይ ኣብ ምድርና ክልተ ዓይነታት ማይ ኣለዉ። ንሳቶም ድማ ጨውነት

ዘይብሎምን ዘለዎምን እዮም። እቶም ጨውነት ዘለዎም ኣካላት ማይ እውን ብትሕዝቶ ጨውነቶም ይፈላለዩዮም። ንኣብነት ካብ ሓፈሻዊ ትሕዝቶ ማይ ቀይሕ ባሕሪ እቲ 4.1% ጨው እዩ። ኣብ ካልኦት ውቅያኖሳት ብማእኸላይ ደረጃ ጨውነት ማይ 3.5% እዩ።

ኣብ ክፍለ ዓለማት ዝርከቡ ማያዊ ኣካላት መብዛሕትኦም ጨውነት ዘይብሎም ወይ ኣዝዩ ትሑት ጨውነት ዘለዎምዮም። ፈሰሶቲ ሩባታትን ቃላያትን ጨውነት የብሎምን ንወድሰብ ይኹን ንካልኦት እንሰሳታትን ተኸልታትን ዝጠቕሙዮም።

**ጨውነት ዘለዎም ቃላያት**

ተምሃሮ ካብቶም ካልኦት ቃላያት ዓለምና ብዝተፈለየ መልክዑ ጨውነት ዘለዎም ቃላያት ትፈልጡዶ? እስቲ ተመያየጥሉ?

ኣብ ዓለም ጨውነት ዘለዎም ቃላያት ኣለዉ እዮም። ካብዚኣቶም እቶም ብትሕዝተኦም ብዙሕ ጨው ዘለዎም ክልተ ቃላያት

- 1. ዓብዪ ቃላይ ጨውን
- 2. ቃላይ ምውት ባሕርን እዮም።

1. ዓብዪ ቃላይ ጨው :- እዙይ ኣብ ምዕራባዊ ሰሜን ኣሜሪካ 'ዩታህ' ኣብ ዝተባህለ ግዝኣት ዝርከብ እዩ። ተምሃሮ እስቲ ካርታ ሰሜን ኣሜሪካ ተጠቒምኩም "ግሬት ሶልት ሌክ" ዝብል ቃላይ ኣለልዩ? እዙይ ቃላይ ኣብ ምዕራባዊ ንፍቀ ክቢ ዓለምና ዝሰፍሐ ጨውነት ዘለዎ ቃላይ እዩ። ብትሕዝቶ ጨውነቱ ኣብ ዓለምና ካብ ዘለዉ ዝለዓለ ጨውነት ዘለዎም ማያዊ ኣካላት ሓደ እዩ። እዚ "ዓብዪ ቃላይ ጨው" ብዝብል ስም ዝፍለጥ ቃላይ ብትሕዝቶ ጨውነቱ ካብ ገለገለ ውቅያኖሳት ብሸሞንተ ዕዕፊ ዝግበዩ እዩ። መጠን ትሕዝቶ ጨውነት ናይዙይ ቃላይ ካብ 15% ክሳብ 27% ስለዝበዕሕ ኣዝዩ ዝለዓለ እዩ። በዙይ ምኽንያት ድማ ኣብዙይ ብዘይካ እቶም ኣዝዮም ደቀኞቲ ነፍሳት ካልኦት ዝኾኑ ዓይነታት እንሰሳት ይኹን እፅዋት ኣይነብሩን።



ካርታ 2.3 ዓብዪ ቃላይ ጨው

2. ምውት ባሕሪ:- ተምሃሮ! እዙይ ስሙ ባሕሪ ይበሃል እምበር ብመሬት ዝተኸበበ ቃላይ እዩ። ተምሃሮ! ካርታ ብምርኣይ እዙይ ቃላይ ኣብ ከባቢ ማእኸላይ ምብራቕ ኣብይ ከምዝርከብ ኣነፅሩ? ምውት ባሕሪ ኣብ ከባቢ ዶብ እስራኤልን ዮርዳኖስ ዝርከብ ቃላይ እዩ። ገማግም ምውት ባሕሪ

ካብ ዓለምና እቲ ዝተሓተ ብራሽ ዘለዎ እዩ። ኣብ ሰሜናዊ ጫፍ ሓጓፍ ሸንጥሮ ድማ ይርከብ። እዙይ ቻላይ ካብቶም ኣገዡ ልዑል ትሕዝቶ ጨውነት ዘለዎም ማያዊ ኣካላት ሓደ እዩ። ትሕዝቶ ጨውነቱ ካብ ካልኦት ውቅያኖሳት ብትሻግተ ዕዕፊ ዝጎበዩ እዩ። ብዙይካ እቶም ኣገዡም ደቀኞቲ ነፍሳት ዝኾነ ዓይነት ህይወት ዘለዎ ነገር ኣይርከብን። ዝኾነ ዓሳ ወይ ካልእ እንስሳ ናብቲ ማይ እንተነእትዎ ነዊሕ ከይፀንሐ ይመውት።



ስእሊ 2.1 ካብ ምዑት ባሕሪ ጨው እንትወፅእ

### መስመዲ 2.1

ሀ. ነዞም ዝሰዕቡ ባዶ ቦታታት ብትኽክለኛ መልሲ ምልእዎም።

1. ስፍሓት ምድሪ \_\_\_\_\_ ትርብዒት ኪሎሜትር እዩ።
2. በዝሒ ክፍለዓለማት \_\_\_\_\_ እየን።
3. ኣብ ከባቢ ማእኸላይ ምብራቕ ዝርከብ ዝለዓለ ጨውነት ዘለዎ ቻላይ \_\_\_\_\_ ይበሃል።
4. እቲ ዝሰፍሐ ውቅያኖስ \_\_\_\_\_ ይበሃል።
5. ካብ ዓለምና \_\_\_\_\_ % ብማይ ዝተሸፈነ እዩ።

### 2.2 ቀንዲ ቕርፅታት መሬት ምብራቕ ኣፍሪካ

ተምሃሮ! ኣብ ምዕራፍ ሓደ ብዛዕባ ኣንፃራዊ መርክቦ ምብራቕ ኣፍሪካ ተማሂርኩም ኢኹም፣ እስቲ ስም እተን ሃገራት ምብራቕ ኣፍሪካ ዘርዝሩ?

ተምሃሮ እስቲ ሕዚ ድማ ፊዚካዊ ካርታ ኣፍሪካ ተመልከቱ። ብመሰረት ሓበሬታ ህዳግ ካርታ ምልክት ሕብርታት እቲ ካርታ በርኽቲ ቦታትንን መታሕትን ኣለልዩ። ኣብቲ ካርታ ነቶም በረኽቲ ቦታታትትን መታሕትን ብኢድኩም እናዳህሰስኩም ኣመላኽቱ። ቕርፅታት መሬት ምብራቕ ኣፍሪካ ዝተፈለለዩ እዩ። ጥቕልል ኣቢልካ እንትረኣ ኣብ ኣርባዕተ ምምቃል ይካኣል እዩ። ንሳቶም ድማ እምባታት፣ ከበሳታት፣ መታሕትን ሓጓፍ ሸንጥሮን እዮም።



ካርታ 2.4 ቅርፂ መሬት ምብራቅ አፍሪካ

## ሀ እምባታት

እቶም ዝለዓለ ብራሽ ዘለዎም እምባታት ክፍለዓለም አፍሪካ ኣብ ምብራቅ አፍሪካ እዮም ዝርከቡ። እቲ ካብ አፍሪካ ብብራሽኡ ቐዳማይ ደረጃ ዝሓዘ እምባ ኪሊማንጀሮ ኣብ ታንዛንያ ዝርከብ እዩ። ብራሽኡ ድማ 5,895 ሜትር ልዕሊ ፀፍሒ ባሕሪ እዩ። ብሓፂሩ ዓበይቲ እምባታት ምብራቅ አፍሪካ ኣብዚ ዝስዕብ ሰደቓ ቐቕሪዎም ኣለዉ።

ተምሃሮ ካርታ እናረገሱም መርክቦ ናይዞም እምባታት ኣነፅሩ። ብዝተሸከሙ መጠን ንሕድሕዲኦም ኣለልዩዎም፣ ብጉጀለ ኮይንኩም ድማ ተመያየጥሎም።

| ተ.ቁ | እምባ    | ብራሽ ልዕሊ ፀፍሒ ባሕሪ | ዝርከበሉ ሃገር  |
|-----|--------|-----------------|------------|
| 1   | ኪሊማንጀሮ | 5,895 ሜትር       | ታንዛንያ      |
| 2   | ኬንያ    | 5,200 ሜትር       | ኬንያ        |
| 3   | ሩዌንዞሪ  | 5,109 ሜትር       | ኡጋንዳ       |
| 4   | ራስ ዳሽን | 4,620 ሜትር       | ኢትዮጵያ      |
| 5   | ሜሩ     | 4,565 ሜትር       | ታንዛንያ      |
| 6   | ኤልጎን   | 4,320 ሜትር       | ኡጋንዳን ኬንያን |

ሰደቓ 2.1 ዓበይቲ እምባታት ምብራቅ አፍሪካ

ተምሃሮ ብዛዕባ እዞም ዓበይቲ እምባታት ምብራቅ አፍሪካ እንታይ ትፈልጡ? ብሓፂሩ እንትረኣ ቐንዲ መግለጺ ቐርቆታት ምድሪ ምብራቅ አፍሪካ እዞም እምባታትን እቲ ዓብይ ሓንፍ ሽንጥሮ ብዝበል ሽም ዝፅዕ መታሕትን እዮም። ቐፂሊ ብዛዕባኦም ሓፂር መግለጺ ቐረቡ ኣሎ ካርታ እናረገሱም ተመያየጥሉ።

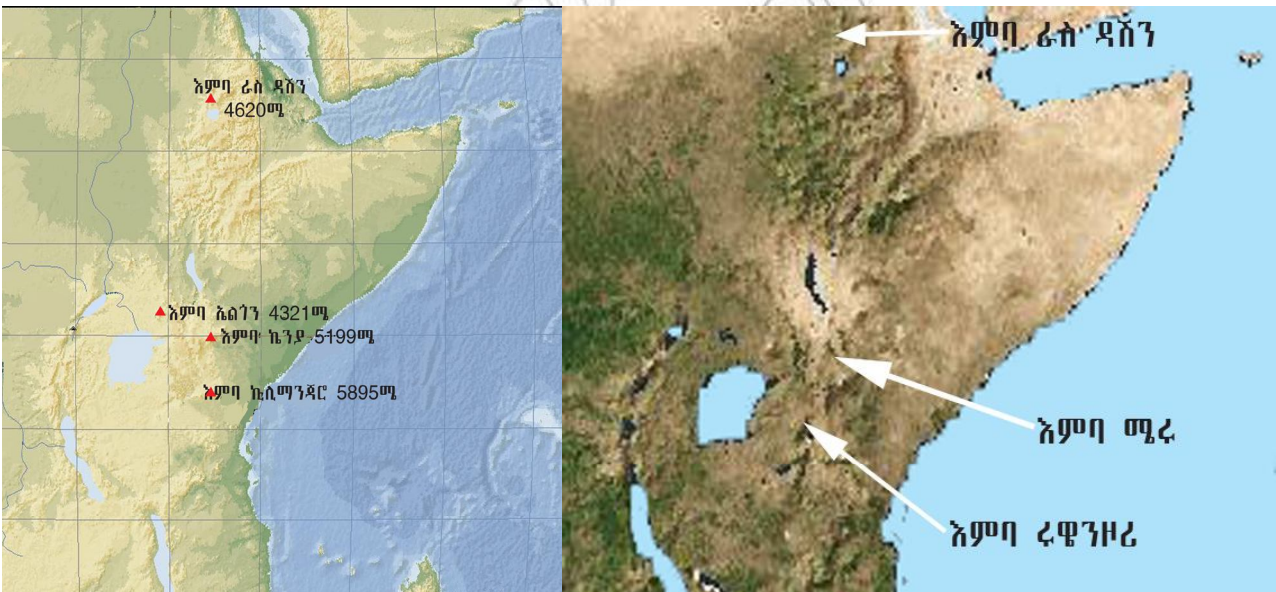
### 1. እምባ ኪሊማንጀሮ:-

እምባ ኪሊማንጀሮ ኣብ ሰሜን ምብራቅ ታንዛንያ ጥቓ ዶብ ኬንያ ዝርከብ እዩ። ተምሃሮ እስቲ ነዙይ እምባ ኣብ ካርታ ኣለልዩዎ? እምባ ኪሊማንጀሮ ካብ ቐናት ምድሪ ብዙሕ ከምዘይርሕቕ ተገንዚብኩምዶ? እምባ ኪሊማንጀሮ እሳተ ጎመራ ምትፋእ ካብ ዝገድፎ ኣሸሓት ዓመታት ኮይኑዎ

እዩ። ቕርባ መሬት እምባ ኪሊማንጀሮ ብሰለስተ ዝለዓለ ብራኽ ዘለዎም ጫፍ እምባታት እዩ ዝግለፅ። እቶም ሰለስተ ጫፍ እምባ ኪሊማንጀሮ ኪቡ፣ ማዌንዚ ከምኡ እውን ሸራ እዩም ዝበሃሉ። ብራኽኦም ኣስታት 5,895 ሜትር ልዕሊ ፀፍሒ ባሕሪ እዩ። ጫፍ ኪሊማንጀሮ ብበረድ ዘተሸፈነ እዩ። ብቋንቋ ስዋሂሊ ኪሊማንጀሮ ማለት "ባዕዳ እምባ" ማለት እዩ። ኣብ ብራኽ ኣስታት 3,000 ሜትር እምባ ኪሊማንጀሮ ብፅዑቕ ኣግራባት ዱር ዝተሸፈነ እዩ።



ሰእሊ 2.2 እምባ ኪሊማንጀሮ



ካርታ 2.5 ሰንሰለታዊ እምባታት ሜሩ፣ ሩዌንዞሪን ራስ ዳሽንን

2. እምባ ኪንዶ፡-

እምባ ኪንዶ ብብራኽኡ ካብ ኪንዶ 1<sup>ይ</sup> ካብ ኣፍሪካ ድማ ኣብ ካልኣይ ደረጃ ዝሰራዕ እዩ። እምባ ኪንዶ ኣብ ማእኸል ሃገረ ኪንዶ ጥቓ ርእስ ከተማ ናይሮቢ ዝርከብ ኮይኑ ካብ ቕናት ምድሪ ብዙሕ ዝረሓቐ ኣይኮነን። እምባ ኪንዶ ዋላኳ ኣብ ከባቢ ቕናት ምድሪ ይሃሉ እምበር ዝባኑ ኩሉግዜ ብበረድ ዝተሸፈነ እዩ። እምባ ኪንዶ ልዑል መጠን ዝኖብ ስለ ዝርከብን ከምኡ እውን እቲ በረድ ስለ ዝመክኽን እዚ እምባ ፍልፍል ብዙሓት ሩባታት እዩ። እምባ ኪንዶ መስሕብ ቱሪዝም እዩ።



3. አምባ ሩዌንዞራ:-

መርከቦ እምባ ሩዌንዞራ አብ ምዕራባዊ ክፍል ምብራቕ አፍሪካ እዩ። ሩዌንዞራ አብ ምዕራባዊ ኡጋንዳ ዝርከብን ክሳብ ዲሞክራቲክ ሪፐብሊክ ኮንጎ ዝበፅሖን ሰንሰለታዊ እምባ እዩ። እምባ ሩዌንዞራ አብ ልዕሊ ቕናት ምድሪ እዩ ዝርከብ ኮይኑ ግና ወትሩ ዝባኑ ብበረድ ዝተሸፈነዩ።



ሰእሊ. 2.3 ሰንሰለታዊ እምባ ሩዌንዞራ

4. አምባ ራስ ዳሽን:-

እዙይ አብ ሰሜን ኢትዮጵያ ዝርከብ ካብ ሃገርና ዝለዓለ ብራሽ ዘለዎ እዩ። እምባ ራስ ዳሽን ኣካል ናይ እምባታት ሰሜን ኮይኑ አብ ምብራቕዎ ኣንፈቱ ዝርከብ እዩ።



ሰእሊ. 2.4 እምባ ራስ ዳሽን

5. እምባ ማረ:-

እዚ እምባ ኣብ ሰሜን ምብራቕ ታንዛንያ ካብ እምባ ኪሊማንጀሮ 70 ኪሎ ሜትር ርሒቑ ዝርከብ እሳተ-ጎመራዊ እምባ እዩ። ብብራኽኡ ካብ እምባታት ኣፍሪካ ኣብ ዓስራይ ደረጃ ዝስራዕዩ። ቕርጺ ምድሪ ጫፍ እምባ ማረ ብምኽንያት ትፋእ ጎመራ ብዙሓት ክጠቀሙ ዘለውዎዮ።

6. እምባ ኬስጎን:-

እዚ ኣብ ዶብ ኡጋንዳን ኬንያን ዝርከብ እምባ እዩ። መርክቦ እምባ ኤልጎን ኣብ ከባቢ ሞሮ ሓደ ዲግሪ ሰሜን ስለ ዝርከብ ካብ ቅናት ምድሪ ዝረሓቑ ኣይኮነን።

ለ. ኸበሳታት

ተምሃሮ ኸበሳ እንታይ ዓይነት ቕርጺ ዘለዎ መሬት እዩ? ኸበሳታት ዝበሃሉ ካብ ፀፍሒ ባሕሪ ኣዝዩ ዝለዓለ ብራኽ ዘለዎም ኮይኖም ዝባኖም ሜዳ ዝኾኑ እዮም። ከበሳታት ምብራቕ ኣፍሪካ መብዛሕተኣም ኣብ ኬንያን ኢትዮጵያን ዝርከቡ እዮም። ልዑል ብራኽ ዘለዎም ከበሳታት ኣለዉ እዮም። ከምኡውን ትሕት ዝበለ ብራኽ ዘለዎም ኸበሳታት እውን ኣለዉ እዮም። ንኣብነት ታሕተዎት ከበሳታት ኬንያ ብራኽኦም ክሳብ 1000 ሜትሮ ልዕሊ ፀፍሒ ባሕሪ ዝበፀሕ እዩ። መብዛሕተኣም ድማ ኣብ ምብራቕውን ሰሜናውን ኬንያ ይርከቡ። እቶም ልዑል ብራኽ ዘለዎም ከበሳታት ድማ ኣብ ምብራቕዎ እምባ ኬንያ ዝርከቡ እዮም። ብራኽኦም ድማ ክሳብ 2000 ሜትሮ ልዕሊ ፀፍሒ ባሕሪ ይበፀሕ።

ኸበሳታት ኢትዮጵያ ኣብ ማእኸል እታ ሃገር ዝርከቡ እዮም። ካብ ሓፈሻዊ ስፍሓት ኢትዮጵያ ኣስታት 50% ዝኸውን ብኸበሳታት ዝተሸፈነ እዩ። ኸበሳታት ኢትዮጵያ በቲ ዓብይ ሓጓፍ ሽንጥሮ ተባሂሉ ዝፀዋዕ ኣብ ክልተ ዝተሰንጠቐ እዩም። ሰሜናውን ምብራቕውን ጫፍ ከበሳታት ኢትዮጵያ ናብ መታሕት ደንክል (ዳናኪል) ብዝጥምቱ ኣፃድፍ ዝተሃነፀ እዩ። መብዛሕተኡ ቕርጺ መሬት ታንዛንያ እውን 1000 ሜትር ልዕሊ ፀፍሒ ባሕሪ ዘለዎ ኸበሳ እዩ።

ሐ. መታሕት

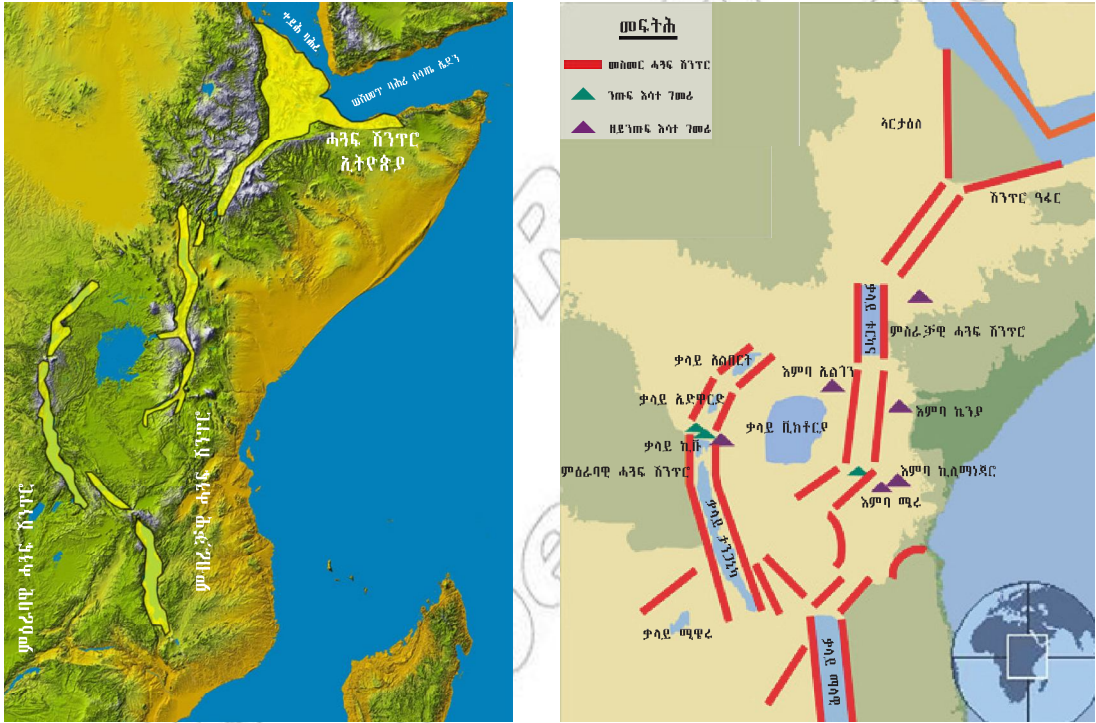
ተምሃሮ መታሕት እንታይ ዓይነት ቕርጺ መሬት እዩ? ኣብ ሃገርና ኸ ኣበይ ከባቢ ይርከብ?

መታሕት ማለት ሜዳ ወይ ሽንጥሮ ኮይኑ ትሕት ብራኽ ዘለዎ ማለት እዩ። መታሕት ምብራቕ ኣፍሪካ ኣብ ዝተፈላለዩ ቦታታት ዝርከቡ ሜዳታት እዮም። ብራኽኦም ካብ ፀፍሒ ባሕሪ ብዙሕ ዝለዓለ ኣይኮነን። ገለገሊኦም እውን ብራኽኦም ትሕቲ ፀፍሒ ባሕሪ እዩ። ብቕንዱ መታሕት ምብራቕ ኣፍሪካ ኣብ ገማግም ቀይሕ ባሕርን ገማግም ውቕያኖስ ህንድን ይርከብ። ብተወሰኹ እውን ኣብ ምብራቕውን ምዕራባውን ኢትዮጵያን ደቡብ ሱዳንን ይርከብ። ኣብ ምብራቕ ኣፍሪካ ብራኽኦም ካብ ፀፍሒ ባሕሪ ዜሮ ሜትር ንታሕቲ ዝኾኑ ዓሞቕቲ ቦታታት መታሕት እውን ኣለዉ እዮም። ካብዞም ዓሞቕቲ መታሕት ምብራቕ ኣፍሪካ ኣብ ደቡብ ምብራቕ ኤርትራን ሰሜን ምብራቕ ኢትዮጵያን ከባቢ ዳሉል ኣብ ዓፋር ዝርከብ ኮባር -ሲንክ ሓደ እዩ። ከምኡውን ኣብ ጅቡቲ ዝርከብ ቃላይ ዓሳል ኣዝዩ ትሕት ብራኽ ዘለዎ እዩ። ኮባር ሲንክ ንቃላይ ዓሳልን ኣብ ውሽጢ ዓብይ ሓጓፍ ሽንጥሮ እዩም ዝርከቡ። ብራኽ ኮባር-ሲንክ 120 ሜትር ትሕቲ ፀፍሒ ባሕሪ /ትሕቲ ዜሮ/ እንትኾነ ብራኽ ቃላይ ዓሳልውን 150 ሜትር ትሕቲ ፀፍሒ ባሕሪ እዩ። ኣብ ሞንጎ ኮባር ሲንክን ቕይሕ ባሕርን እሳተ ጎመራ ዝተፍእ እምባ ዳናኪል /ደናኪል ኣልኻስ/ ኣሎ እዩ። ኮባር ሲንክ ዝርከበሉ ሰጣሕ መታሕት ደንክል ኣዝዩ ልዑል መጠን ረስኒ ኣለዎ። ከምኡ እውን እሳተ ጎመራ ዝተፍእ እዩ። ኮባር ሲንክ ኣብ ሓደ እዋን ባሕሪ እዩ ኔተ። ኮይኑ ግና ብልዑል መቐት እቲ ማይ ሃፊፋ (ተኒኑ) ሕዚ ብፖታሽን ብጨውን ካልእ መዓድንን ዝተመልኦ እዩ።

### መ. ዓብይ ሓጓፍ ሽንጥሮ

ተምሃሮ ሃጓፍ ሽንጥሮ እንታይ እዩ? ከመይ ይፍጠር? እስቲ ካብ ሕሉፍ ትምህርትኹም ተመያየጥሉ?

ኣብ ውሽጢ መሬት ተፃረርቲ ሓይልታት እንትሳሓሓቡ እቲ ኣብ መንጎ ዘሎ መሬት ንታሕቲ ይሰምጥ፡ ይሃምም። እዚ ኣብ መንጎ በረኽቲ ቦታታት ዝሰመጠ መሬት ድማ ሓጓፍ ሽንጥሮ ይኸውን። ዓብይ ሓጓፍ ሽንጥሮኽ እንታይ እዩ? ሓጓፍ ሽንጥሮ ብውሽጣዊ ሓይልታት ምድሪ ዝፍጠር እዩ። ብመሰረቲ ሓጓፍ ሽንጥሮ ኣካል መታሕት እዩ። ይኹን እምበር ዓብይ ሓጓፍ ሽንጥሮ ዝበሃል ኣብ ምብራቕ ኣፍሪካ ፍሉይ ቅርፂ መሬትን ጎሊሁ ዝረኸን ስለዝኾነ ንበይኑ ምርኣይ ኣገዳሲ እዩ። ዓብይ ሓጓፍ ሽንጥሮ ምብራቕ ኣፍሪካ ኣብ ዓለምና ዝግበዩ ሓጓፍ ሽንጥሮ እዩ። ሓጓፍ ሽንጥሮ ምብራቕ ኣፍሪካ ኣካል እቲ ካብ ሞዛምቢክ ክሳብ ሶርያ ዝተዘርገሐ ሓጓፍ ሽንጥሮ እዩ። (ካርታ 2.6 ተመልኩቱ)።



ካርታ 2.6 ዓብይ ሓጓፍ ሽንጥሮ ምብራቕ ኣፍሪካ

ተምሃሮ እስቲ ብዛዕባ ሓጓፍ ሽንጥሮ ምብራቕ ኣፍሪካ ካርታ 2.6 ብዝግባእ ርኢኹም ተመያየጥሉ? እቲ ሓጓፍ ሽንጥሮ ክልተ ጨንፈራት ከምዘለውዎ ተገንዚብኩም ዶ?

እቲ ሓደ ምዕራባዊ እቲ ካልኣይ ድማ ምብራቓዊ ሓጓፍ ሽንጥሮ ይበሃሉ። ተምሃሮ ብሃገርና ኢትዮጵያ፣ ብቀይሕ ባሕሪ፣ እስራኤልን ምዊት ባሕርን ኣቢሉ ክሳብ ሶርያ ዝበፀሕ ኣየናይ ጨንፈር እዩ? ምዕራባዊ ጨንፈር ሓጓፍ ሽንጥሮኽ ኣብይ ከባቢ ዝተሓፀረ እዩ? ሓጓፍ ሽንጥሮ ምብራቕ ኣፍሪካ ኣብ ውሽጡ ይኹን ኣብ ከባቢኡ እሳተ ጎመራዊ እምባታት ኣለዉ እዮም። ንኣብነት እምባታት ኡጋንዳ ብዘይካ እምባ ፍዌንዘሪ ካልኣት ኩሎም እሳተ ጎመራዊ እዮም። ካልኣት ከም እምባ ኪሊማንጾር፣ ኪንያን፣ ራስዳሽንን እሳተ ጎመራዊ እምባታት እዮም። ተምሃሮ ካርታ 2.6 ብዝግባእ ተመልኪትኩም ነቶም ብኣናእሽቲ ስሉስ ኩርናዕ ብወይናዎይ ሕብሪ ተመልኪቶም ዘለዉ እሳተ-ጎመራ ዝተፉኡ ኸባብታት ኣነፅሩ?

ዓብዪ ሓጓፍ ሽንጥሮ ብዙሕ ረብሓታት ዘለውዎ እዩ። ብዝተፈላለዩ ማዕድናት ዝማዕበለ'ዩ። ብቐንዱ ድማ ብዙሓት ቃላያት ዝሓዘ እዩ። ተምሃሮ! ዓበይቲ ቃላያት ብዝብል ስም ዝፅውዑ ቃላያት ከም ቃላይ ታንጋኒካ፣ አልበርት፣ አዋሳ፣ ላንጋኖ፣ ኪቩ፣ ኤድዋርድን ካልኦትን አብ ካርታ አለልዩ። ከምኡ'ውን ዝተፈላለዩ እንስሳት ዘገዳም ስለ ዘለዎ ካብ ቱሪዝም ዝርከብ እቶት አዝዩ ብዙሕ ገንዘብ እዩ። ቃላያት ዓብዪ ሓጓፍ ሽንጥሮ ንምዝፋፍ ዓሳ፣ ንመጓጓዣይ፣ ንመዘናግዒ ስለዝጠቐሙ ዓብዪ ረብሓ አለዎም። ቃላይ ቪክቶርያ ካብ ውሽጢ ሓጓፍ ሽንጥሮ ወፃኢ አብ መንጎ ምብራቓውን ምዕራባውን ጨናፍር ሓጓፍ ሽንጥሮ እዩ ዝርከብ። ሓጓፍ ሽንጥሮ ምብራቕ አፍሪካ በዓል ሉሲ ዝተረኸቡሉ መበቆል ወዲሰብ እዩ። ካልእ መግለጺ ሓጓፍ ሽንጥሮ ድማ ርእደ መሬት ብበዝሒ ዝረአየሉ ምዃኑ እዩ። ተምሃሮ አብ ወርሒ ሰኔ 2003 ዓ.ም አብ ሓጓፍ ዓፋር ዝተርአየ ርእደ መሬትን ትፋእ እሳተ ጎመራን እንታይ ትፈልጡ?

### 2.3 ሃፍትታት ማይ ምብራቕ አፍሪካ

ተምሃሮ እስቲ ካርታ አፍሪካ ተጠቐምኩም ማይ ካሳት ምብራቕ አፍሪካ አለልዩ? ክንደይ ዝኾኑ አለሊኹም? እንታይ ዓይነት ማይ ካሳት እዮም? ብምቕፃል ድማ ሕድሕድ ቃላይ፣ ፍባ፣ ባሕሪ፣ ውቅያኖስ ምብራቕ አፍሪካ አበይ ከም ዝረከብ አብ ዓበይቲ ካርታታት አለሊኹም አመልክቱ? ብምቕፃል ነዞም ብዛዕባ ቃላያት፣ ፍባታት፣ ባሕርን ውቅያኖስን ከባቢ ምብራቕ አፍሪካ ዝምልከቱ መበገሲ ሓሳባት መሰረት ጌርኩም ምይይጥ አካይዱ?

#### 2.3.1 ቃላያት ምብራቕ አፍሪካ

ቃላይ ብምድሪ ዝተኸበበ ማይ ካሳ እዩ። ካብ ክፍለዓለም አፍሪካ ብበዝሒ ቃላያት አብ ቐዳማይ ብርኪ ዝሰራሕ ክልል ምብራቕ አፍሪካ እዩ። ቃላያት ምብራቕ አፍሪካ ብመሰረት መርክበኣም አብ ክልተ ይምደቡ። ንሳቶም እውን ቃላያት ሓጓፍ ሽንጥሮን ካብ ሓጓፍ ሽንጥሮ ወፃኢ ዝርከቡን ቃላያት እዮም።

### ዕዮ ጉጅለ



1. አብ ሃገርና ኢትዮጵያ ዝርከቡ ቃላያት ሓጓፍ ሽንጥሮ ክንደይ እዮም? ሽሞምክ? ካብ ሓጓፍ ሽንጥሮ ወፃኢ ዘለዉ ቃላያት ከ ክንደይ እዮም? እቶም ቀንዲ መነመን ይበሃሉ? አበየናይ ክልል ይርከቡ?
2. ተምሃሮ ፊዚካዊ ካርታ አፍሪካ ብጉጅለ ኮይንኩም ብምርአይ ነዞም ዝሰዕቡ ዓበይቲ ቃላያት ምብራቕ አፍሪካ አበይ ከምዝርከቡ አነፅሩ። ብምቕፃል ቃላያት ሓጓፍ ሽንጥሮን ካብ ሓጓፍ ሽንጥሮ ወፃኢ ዘለዉን ኢልኩም አብ ክልተ መድብዎም።
 

|              |              |              |
|--------------|--------------|--------------|
| 1. ቃላይ ኪቩ    | 5. ቃላይ ታንጋኒካ | 9. ቃላይ ላንጋኖ  |
| 2. ቃላይ ቪክቶርያ | 6. ቃላይ ማላዊ   | 10. ቃላይ ሓሸንገ |
| 3. ቃላይ ቱርካና  | 7. ቃላይ አልበርት | 11. ቃላይ ዝዋይ  |
| 4. ቃላይ ጣና    | 8. ቃላይ ኤድዋርድ | 12. ቃላይ ሻላ   |

### 2.3.2 ሩባታት ምብራቕ አፍሪካ

ምብራቕ አፍሪካ ብዙሐት አናሽቲ ሩባታታት ዝሓዘ እዩ። ተምሃሮ ካብቶም ዓበይቲ ሩባታት ክንደይ ትፈልጡ? እስቲ ተመያየጥሉ? ካርታ ምብራቕ አፍሪካ ተጠቂምኩም ዝተፈላለዩ ሩባታት ምብራቕ አፍሪካ ኣለልዩ?

#### ንጥፈት



ተምሃሮ! እቲ ካብ ዓለም ዝነውሐ ሩባ መን ምዃኑ ትፈልጡ ዶ? ካበይ ከ ይብገስ? ሩባ ኣባይ ከ ካበይ ከምዝብገስ ትፈልጡ ዶ?

እስቲ ሕዚ ድማ ሩባ ናይል ካበይ ከምዝብገስን ነየነኦም ገባር ሩባታት ሓዙ ናይል ከምዝበሃልን ካርታ አፍሪካ እናተጠቐምኩም ምስ መምህርኩም ተመያየጥሉ? ተምሃሮ! ካብ ገባራት ናይል እቲ ዝለዓለ መጠን ማይ ዝሓዘ መን ይበሃል? ብጉጀለ ኾይንኩም ካርታ ብምርኣይ ኣብ ኢትዮጵያ ዝርከቡ ሩባታት ኣባይ፣ ተከዘ፣ ጁባ /ገናሌ/ ሸበሌ፣ ኣብ ኬንያ ዝርከቡ ሩባታት ታና፣ ጋላና ከምኡውን ኣብ ቡሩንዲ ዝርከብ ሩባ ሩሲዚ ኣለሊኹም ኣብ ደፍተርኩም ካርታ ስኢልኩም ኣብ ትኸክለኛ መርክቦኦም ኣስፍሩ?

### 2.3.3 ውቅያኖሳትን ባሕርታት

ኣብ ምብራቕ አፍሪካ ሓደ ባሕሪ ጥራይ እዩ ዘሎ። ተምሃሮ እዚ ባሕሪ መን ይበሃል? እስቲ ኣብ ካርታ ኣብ ከባቢ ሰሜን ምብራቕ ክፋል ምብራቕ አፍሪካ ኣለሊኹም ኣለልዩዎ? ካብ ሃገራት ምብራቕ አፍሪካ ሱዳን፣ ኤርትራን ጅቡቲን ምስ ቀይሕ ባሕሪ ይዋሰን /ይዳወባ/። ከምኡውን ኣብ ምብራቕ አፍሪካ ሓደ ውቅያኖስ ኣሎ። ንሱ ድማ ውቅያኖስ ህንዲ ይበሃል። ተምሃሮ ካርታ ተጠቂምኩም ምስ ውቅያኖስ ህንዲ ዝዋሰን /ዘደወባ/ ሃገራት ምብራቕ አፍሪካ ዘርዝሩ? ብቑፅሪ ኸ ክንደይ ሃገራት እየን? ክምኡውን ካብተን ሃገራት ምስ ቀይሕ ባሕሪ ወይ ውቅያኖስ ህንዲ ዘይዋሰን ሃገራት ኣብ ካርታ ኣመልክቱ?

## 2.4 ማይን ቐጠባዊ ረብሕኹን ኣብ ምብራቕ አፍሪካ

ተምሃሮ! ኣብ ከባቢኹም ዘለዉ ማይዎ ኣካላት እንመን ይበሃሉ? ናይ ከባቢኹም ሕብረተሰብክ ንምንታይ ይጥቀሙሎም? ብሓፈሽኡ ማይዎ ኣካላት ንወድሰብ ዝህብዎ ረብሓ እንታይ እዩ? እስቲ ምስ መምህርኩም ተመያየጥሉ? ማይዎ ኣካላት ምብራቕ አፍሪካ ዝተፈላለዩ ረብሓታት ኣለዎም። ውቅያኖስ ህንዲን ቀይሕ ባሕርን ከም ሞምባሳ፣ ሞቻዲሾ፣ ጂቡቲ፣ ፓርት-ሱዳን፣ ምፅዋዕን ዝመሰሳሉን ዓበይቲ ወደባት ዘለዉዎም እዮም። እዞም ወደባት ኣብ መንግሥቱ ባሕሪ ዓብይ ረብሓ ዝህቡ እዮም። ዝተፈላለዩ ዓበይትን ናሽቲን መራኽብን ጃልባታትን ዘዕርፋሉ፣ ዘራግፋሉን ዝፅዕሩሉን እዮም። እዞም ክልተ ማይዎ ኣካላት ዝተፈላለዩ ኣቕራቢ ንግድን ሰባትን ዝመላለሱሎምን ህዝብታት ዝራኽቡሎምን እዮም። ውቅያኖስ ህንዲን ቐይሕ ባሕርን ብብዝሒ ዓሳ ዝፍረዮም ስለዝኾኑ ኣብ ቁጠባዊ ምዕባል ሃገራት ሱዳን፣ ኤርትራ፣ ጂቡቲ፣ ሱማሊያ፣ ኬንያን ታንዛንያን ዓብይ ረብሓ ኣለዎም። ካብዞም ማይዎ ኣካላት ዓሳ ብምዝፍፍ ዝርከብ ሃፍቲ ፍልፍል ምግብ ህዝብታት እዞም ሃገራት እውን እዩ።

ቐላይት ምብራቕ አፍሪካ እውን ዓበይቲ ረብሓታት ይህቡ እዮም። ንኣብነት ቃላይ ቪክቶርያ ኣብ መንጎ ሃገራት ኬንያ፣ ኡጋንዳን ታንዛንያን ብዝሒ ዘለዎም ሰባትን ኣቁሑትን ብዓበይቲ መራኽብን

ጃልባታትን ይጓጓዣዎት እዮም። ካብ ቃላይ ቪክቶርያ ንምግብነት ዝውዕሉ ዓሳታት ይርከቡ እዮም። ፍባታት ምብራቕ ኣፍሪካ እውን ክንድቲ ዝድለ ኣብ ረብሓ ኣይወዓሉን እምበር ብዝተወሰነ መልክዑ ዝተፈላለዩ ጥቕምታት ኣለውዎም እዮም። ኣብ ኢትዮጵያን ኡጋንዳን ፍልፍል ኣይሊ ማያዊ ኤለክትሪክ እዮም። ኣብ ኩለን ሃገራት ኣብ ስፍሕቲ ሕርሻታት መስኖ ዓብይ ረብሓ ኣለዎም። ፍባታት ምብራቕ ኣፍሪካ ብዝተወሰነ መልክዑ ንመጓጓዣያ ጃልባታት እውን ይውዕሉ እዮም።

### ንጥፈት



ተምሃሮ ንወለድኹምን ዝፈልጡ ሰባትን ብምሕታትን ጋዜጣታት ብምንባብን ኣብ ኢትዮጵያ ክንደይ ፍባታት ንኣይሊ ኤለክትሪክ ክምዝወዓሉን ሰሞምን ግለፁ።

ብሓፈሻ እንትረክ ማይ ካብ ንመስተ እንስሳትን ሰባትን ሓሊፉ ክሳብ ንመጓጓዣያ፣ ንኣይሊ ኤለክትሪክ፣ ንመስኖን ንቱሪዝምን ዘለዎ ስትራቴጂካዊ ረብሓ ኣዝዩ ልዑል እዩ። ኣብ ቁጠባዊ ምዕባል ሃገራት ምብራቕ ኣፍሪካ ዓብይ ግደ ዘለዎ እዩ። ንኣብነት ኣብ ቃላይት ሓንፍ ሸንጥሮ ዝርከቡ ዝተፈላለዩ ሕብርታት ዘለዉዎም ኣዕዋፋትን መዛናግዕታትን መሳሕባት ቱሪስትታት እዮም።



ስእሊ 2.5 ወደብ መጓጓዣያ ማይ

### መስመዲ 2.2

- ሀ. ንዝስዕቡ ሕድሕድ ሕቶ ተዋሂቡ ኣብዘሎ ባዶ ቦታ ትክክለኛ መልሲ ምልኡ።
  1. ኣቀማምጣ፣ ኣመሓውራን ቅርፅን ምድሪ ብሓፈሻ \_\_\_\_\_ ይበሃል።
  2. ካብ ሓፈሻዊ ስፍሓት ምድሪ \_\_\_\_\_ % ደረቕ መሬት እንትኾን \_\_\_\_\_ % ድማ ብማያዊ ኣካላት ዝተሸፈነ እዩ።
  3. ሓሙሽተ ውቅያኖሳት ዓለምና ዝበሃሉ \_\_\_\_\_ ፣ \_\_\_\_\_ ፣ \_\_\_\_\_ ፣ \_\_\_\_\_ ን እዮም።
  4. እምባ ኪሊማንጀሮ ዝርከበሉ ሃገር \_\_\_\_\_ ይበሃል።
  5. ኣብ ገማግም ምብራቕ ኣፍሪካ ዝርከብ ውቅያኖስ \_\_\_\_\_ ይበሃል።

## 2.5 ከባቢ አየር

ተምሃሮ ከባቢ አየር እንታይ እዩ? ክሳድኩም ንላዕሊ ኣንቃዕሪርኩም ናብ ሰማይ ከተማዕድዉ እንተለኹም እንታይ ኢኹም ትርእዩ? ሓደሓደ ግዜኸ ኣውሮፕላን ክትበርር ትርእዩዶ? እንታይ እናሰንጠቐት ትበርር? እስቲ ተመያየጥሉ?

ከባቢ አየር ንምድርና ከም ኮበርታ ሸፊንዎን ኸቢቡዎን ዝርከብ ናይ ዝተፈላለዩ ዓይነታት ጋዝ እኩብ እዩ። ከባቢ አየር እንተዘይህሉ ኔሩ ኣብ ምድርና ህይወት ዘለዎ ነገር ኣይምነበረን። ተምሃሮ እስቲ ምኸንያቱ ተመያየጥሉ? ኸባቢ አየር ኣብ መነባብሮ ደቂ ሰባት እውን ዓብዪ ፅልዎ ዘለዎ እዩ። ንኣብነት ናብ ምድሪ ዝመፅእ ኣዝዩ ሓያል ጉልበት ፀሓይ ሂወት ዘለዎም ነገራት ንኸዩሕርር ዝከላኸል ኣብ ፅፍፃፍ አየር ስትራቶስፊር ዝርከብ ከባቢ አየር ኣዞን እዩ። ኣዞን ጋዝ ዝርከብ ኣብ ከባቢ አየር እዩ። ዝናብ ዝፍጠር ብምኸንያት ምህላው ከባቢ አየር እዩ። እፀዎት ምግባም ንምስራሕ ዘኸእሎም ቀንዲ ጋዝ ዝረኸብዎ ካብ ከባቢ አየር እዩ።

### ፅፍፃፍ ከባቢ አየር

ካብ ምድሪ ንግቕብ እናለዓልና ብዝኸድና ቁፅሪ ዝተፈላለዩ ፅፍፃፍት ከባቢ አየር ንረክብ። ብሓፈሻ እንትርአዩ ኣርባዕተ ፅፍፃፍት ከባቢ አየር ኣለዉ። ንሳቶም ድማ ትሮፖስፊር፣ ስትራቶስፊር፣ ሚዞስፊርን ቴርሞስፊርን ይባሃሉ።

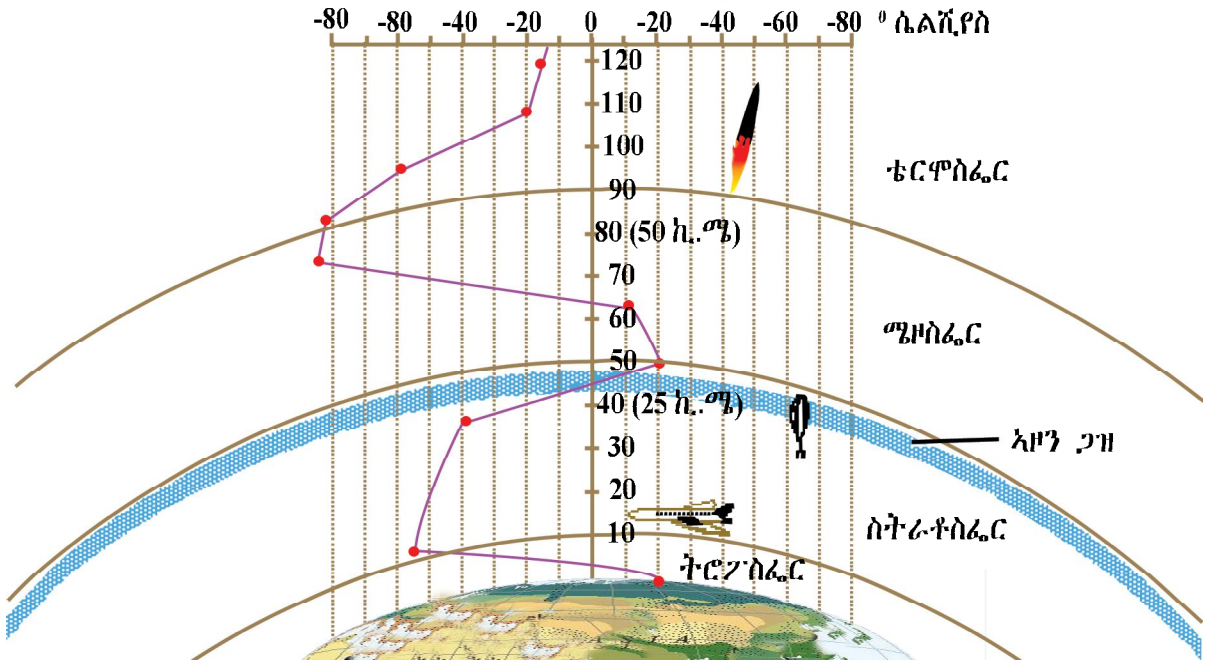
1. ትሮፖስፊር:- እዙይ ፅፍፃፍ ኸባቢ አየር እቲ ንምድርና ዝቐረበ እዩ። ትሮፖስፊር ካብ ምድሪ ጀሚሩ ንላዕሊ ክሳብ ከባቢ 10-15 ኪሎሜትር ዘሎ ኸባቢ አየር ዝሓቐፈ እዩ። ትሮፖስፊር ኣብ ልዕሊ ኸባቢ ቅናት ምድሪ ዝሰፍሐ እንትኾን ኣብ ልዕሊ ኸባቢ ዋልታ ድማ ፅብብ ኢሉ ኣስታት 9 ኪሎ ሜትር ጥራይ እዩ ስፍሓቱ። ኩነታት አየር ዓለምና ዝውሰን ብመሰረት ኩነታት ትሮፖስፊር እዩ። እዙይ ማለት መጠን ረስኒ ዓለምና ይኹን ኩነታት ዝናብ፣ ደበና፣ በረድ፣ ፀቕጢ አየር ወዘተ ዝኸሰት ብኹነታት ከባቢ አየር ትሮፖስፊር እዩ።

ተምሃሮ ብቴሊቪዥን ይኹን ብሬድዮ ትንበይ ኩነታት አየር ከባቢና ክንገር ትስምዑዶ? ኣብ ዝቐፅሉ መዓልታት ወይድማ ሰሙናት እንታይ ዓይነት መጠን ረስኒ፣ ደበና፣ ዝናብ፣ ፀቕጢ አየር ከምዝኸሰት ዝፍለጥ እዩ። እዙይ ዝፍለጥ ድማ ብሰብሙያ ሜትሮሎጂ ንትሮፖስፊር ብምፅናዕ እዩ። ኣብ ትሮፖስፊር መጠን ብራኽ እናወሰኸ እንትኸድ መጠን ረስንን ፀቕጢ አየርን እናነከየ እዩ ዝኸይድ። ከምኡ ኢሉ እውን ካብ ትሮፖስፊር ወፃኢ ኣብ ዘለዉ ስለስተ ፅፍፃፍት ከቢቢ አየር ኣዝዩ ስሕው ትሕዝቶ እዩ ዘለዎም። ብመጠን ትሕዝቶ ጋዛት እንትረኣ ስትራቶስፊር 75% ዝሓዘ እንትኾን እቲ ዝተረፈ 25% ድማ ኣብቶም ካልኦት ስለስተ ፅፍፃፍት ተመቓቂሉ ይረኣ።

### ትሮፖስፊርን ኣካላቱን

ተምሃሮ ኣብ ትሮፖስፊር እንታይ ኣሎ? ከባቢ አየር ትሮፖስፊር ካብቶም ካልኦት ፅፍፃፍት ከባቢ አየር ዝለዓለ ትሕዝቶ ዘለዎን ፅዑቕን እዩ። ከባቢ አየር ብሓፈሻ ትሮፖስፊር ድማ ብፍላይ መብዛሕትኡ ትሕዝትኡ ናይትሮጅን እዩ። ካብ ሓፈሻዊ ትሕዝቶ ጋዛት ትሮፖስፊር 78% ናይትሮጅን እዩ። ብኸልኣይ ደረጃ ዝሰራዕ ኦክሲጅን ኮይኑ ልዕሊ 20% እዩ። ካልኦት ጋዛት ትሮፖስፊር ከም ካርቦን ዳይኦክሳይድን ኣዝዩ ትሕት መጠን ዘለዎ ኣዞንን እዮም። ትሮፖስፊር ብተወሰኹ እውን ሃሩ-ማይን ዶሮናን ዝሓዘለ እዩ። ካብ ሓፈሻዊ ትሕዝቶ ሃሩ-ማይ ከባቢ አየር እቲ 99% ኣብ ትሮፖስፊር እዩ ዝርከብ።

2. ስትራቶስፊር:- እዚ ኣብ ልዕሊ ትሮፖስፊር ዝርከብ ዕፍፃፍ (ቀፀላ) ከባቢ ኣየር እዩ። ኣስታት 35 ኪሎ ሜትር ዝሸፈነ እዩ። እዙይ ማለት ኣብ ልዕሊ ምድሪ ካብ 15 ኪሎ ሜትር ክሳብ 50 ኪሎ ሜትር ዘሎ ከባቢ ኣየር ዝሓዘ እዩ ማለት እዩ። ኣብ ስትራቶስፊር መጠን ለውጢ ረስኒ ከም ትሮፖስፊር ኣይኮነን። ኣብ ታሕታዎይ ክፋል ስትራቶስፊር ብራኽ እንትውስኽ መጠን ረስኒ ኣይውስኽን። ከምኡ'ውን መጠን ረስኒ ኣይንክን። ኣብ ላዕለዎይ ክፋሉ ግና ብራኽ እናወሰኸ እንትኸይድ መጠን ረስኒ እውን እናወሰኸ እዩ ዝኸይድ። ተምሃሮ እስቲ እዚ ለውጢ መጠን ረስኒ ምስ ትሮፖስፊር ኣነፃፀርዎ? ብኸሊኡ መዳይ ድማ ስትራቶስፊር ብትሕዝቱኡ ስሕው ዝበለ ስለ ዝኾነ ብኣወሮኻላን ንዝግበር ጉዕዞ ምቕው እዩ። ኣብ ላዕለዎይ ክፋል ቐፀላ ከባቢ ኣየር ስትራቶስፊር ኣዞን ዝበሃል ጋዝ ኣሎ። ኣዞን ካብ ፀሓይ ንዝመፅእን ንጥዕና ወድሰብ ሓደገኛ ዝኾነን ጨረር ናብ ምድሪ ንኸይበፀሕ ዓፊኑ ዝሕዝ ጋዝ እዩ። ኣዞን እንተዘይህሉ ኣብ ምድሪ ህይወት ዘለዎ ነገር ኣይምሃለወን።
3. ሜዞስፊር:- እዙይ ብቐጥታ ኣብ ልዕሊ ስትራቶስፊር ዝተነፀፈ ኸባቢ ኣየር እዩ። ሜዞስፊር ካብ ምድሪ ኣብ መንጎ 50 ኪሎ ሜትሮን 80 ኪሎ ሜትርን ዝርከብ ከባቢ ኣየር እዩ። ብሓፈሻ እንትርኣ ኣብ ሜዞስፊር ብራኽ እናወሰኸ እንትኸይድ መጠን ረስኒ እናነከየ ይኸይድ። እቲ ዝለፀገ ክፋል ሜዞስፊር እቲ ኣብ ምድርና ኣዝዩ ዝተሓተ መጠን ረስኒ ዘለዎ ከባቢ ኣየር እዩ።
4. ቴርሞስፊር:- እዙይ እቲ ካብ ምድሪ ኣብ ዝለፀገ ብራኽ ዝርከብ ከባቢ ኣየር እዩ። ቴርሞስፊር ካብ ምድሪ ኣብ መንጎ 80 ኪሎ ሜትርን 1000 ኪሎ ሜትርን ዝርከብ ስሕው ዕፍፃፍ ከባቢ ኣየር እዩ። ቴርሞ ማለት ውዑይ ማለት እዩ። ኣብ ቴርሞስፊር ብራኽ እንትውስኽ መጠን ረስኒ እውን እናወሰኸ እዩ ዝኸይድ። ኣብ ቴርሞስፊር መጠን ረስኒ ልዕሊ 1500° ሴንትግሬድ ይበፀሕ እዩ። ቴርሞስፊር ብመዳይት ሳታላይት ኣብ ምዕባለ መራኽቢ ሚላታት ሬድዮን ቴሌቪዥንን ዓብዩ ረብሓ ዘለዎ እዩ። ቴርሞስፊር ናይ መወዳእታ ቐፀላ ኸባቢ ኣየር እዩ። ብድሕሪ ቴርሞስፊር ዝመፅእ ህዋ እዩ።



ሰጊሊ 2.6 ዕፍፃፍ-ት ከባቢ ኣየር



## 2.6 ልሙዳት ምልክታትን ምስልታትን ካርታ

ተምሃሮ ኣብ መፃሕፍቲ፣ መፅሔታት ኣብ መንደቕ ክፍልኹም ዝተሰቐሉን ካልኣትን ብዙሓት ካርታታት ሪኢኹም ኢኹም። እዞም ካርታታት ገለገለኦም ብዝተፈለለዩ ሕብርታት ዝተሰኣሉ እንተኾነ ገሊኦም ድማ ብፃዕዳን ፀሊምን ጥራይ እዮም ተሳኢሎም። ተምሃሮ ነዮንኦም ኢኹም ተድንቑ? ኣዮንኦም ዝበለፀ ሓበሬታ ይህብኹም? ንምንታይ? እስቲ ተመያየጥሉ?

ኣብ ዝኾነ ካርታ ቁልፊ ወይ መፍትሕ ዝብል ፅሑፍ ኣሎ እዩ። ተምሃሮ እስቲ ቁልፊ ካርታ ዝብል ኣብ ካርታ ረኣዩኦም እንታይ ከምዝገልፅ ተመያየጥሉ? ፅቡቕ ካርታ ዝበሃል ብሕብርታት ዘገፀ ጥራይ ዘይኮነስ ቁልፊ ወይ መፍትሕ ካርታ እንትህልዎ ጥራይ እዩ። ብመሰረት መፍትሕ ካርታ ሕድሕድ ሕብሪ፣ ምስሊ ወይ ምልክት እንታይ ከምዝውክል ንፁር ይኸውን። በዙይ ኣቢሉ ድማ ዝኾነ ሰብ ካብ ካርታ ንፁር ሓበሬታ ይረክብ። ሓዲ ካርታ ኣዝዮም ብዙሓት ሓበሬታትን ተርእዮታትን ዝሓዘ እዩ። እዞም ኩሎም ሓበሬታታት ብዝርዝር ብፅሑፍ ወይድማ ብስእሊ ኣብ ካርታ ምቕማጥ ኣይክኣልን። ኣብ ካርታ ዘሎ ቦታ ኣዝዩ ውሱን እዩ። ስለዚ ካርታ ብቐሊሉ ተቐሚጦም ክገልፁ ዝክእሉ ሕብርታት፣ ምልክታትን ምስልታትን ክህልዉዎ ናይ ግድን እዩ።

ተምሃሮ ኩሎም ኣብ ዓለም ዘለዉ ካርታታት ንሓዲ ዓይነት ሕብሪ ወይ ምልክት ብተመሳሳሊ መንገዲ ዝጥቀሙሉ ዶ ይመሰለኩም? ልክፅ እዩ ልሙዳት ምልክታት፣ ሕብርታትን ምስልታትን ኣለዉ እዮም። ኮይኑ ግና ኩሎም ብተመሳሳሊ መንገዲ እዮም ዝጥቀሙሎም ክንብል ኣይንክእልን። ዝተቐመጠ ሕጊ ወይ ስምምዕ የለን። ገለገለ ግን ከም ሕጊ ጌርና እንወሰዶም ኣለዉ። ንኣብነት ሰማያዊ ሕብሪ ንቃዮት፣ ንውቅያኖሳትን ባሕርታትን ብቐዋሚ እንጥቀመሉ ሕብሪ እዩ።

እቶም ካርታታት ዝጥቀሙሎም ልሙዳት ሕብርታት፣ ምልክታትን ምስልታትን እውን እንተኾነ ብመሰረት ዓይነት ካርታ ዝቐመጡ እዮም። ፊዚካዊ ካርታ ዝተፈላለዩ ሕብርታትን ምልክታትን ተጠቐሙ ዝተፈላለዩ ዓይነታት ገፁምድሪ ዘርእይ እዩ። ፓለቲካዊ ካርታ ድማ ብዝተፈላለዩ ምልክታትን ሕብርታትን ዝተፈላለዩ ደባት፣ ከተማታት፣ ዓበይቲ መንገድታት፣ ኣሰፊፍራ ሕብታትን ብሄረሰባትን፣ ዓበይቲ ህንፃታት ወዘተ የርእይ።

### ዕዮ ጉጅለ



ተምሃሮ! ብጉጅለ ኮይንኩም ዝተፈላለዩ ፊዚካዊ ካርታታት ምስ መፍትሒም ተመልከቱ። ነቲ ኣብ ካርታ 2.7 ተገለፁ ዘሎ መፍትሕ ካርታ ብዝገባእ ተመልከቱ። ትርጉም ሕብሪ፣ ምልክትን ምስልን መሰረት ጌርኩም እዞም ዝስዕቡ ዓይነታት ገፁምድሪ ኣብ ካርታ ብምንታይ ዓይነት ሕብሪ፣ ምልክትን ምስልን ከምዝተወከሉ ኣብ ደብተርኩም ኣሰፊርኩም ብጉጅለ ንክፍሊ ኣቕርቡ?

1. እምባታትን በረኽቲ ቦታታትን ከመይ ተሓቢሮም ኣለዉ?
2. ቕፅፅ ብራኽ ጫፍ እምባ ካብ ፀፍሒ ባሕሪ /ብሜትር/ ከመይ ተገለፁ?
3. መታሕት ብምንታይ ዓይነት ሕብሪ ተገለፁ?
4. ማያዊ ኣካላት እንታይ ዓይነት ሕብሪ ይገልፃም? እዚ ሕብሪ ድሙቕን ሃሳስን እንተኾይኑ እንታይ የርእይ?
5. ምድረበዳ ከመይ ተገለፁ?
6. ብበረድ ዝተሸፈነ ቦታ እንታይ እዩ ምልክቱ?
7. ሳዕሪ ምድሪ ከመይ ተገለፁ ?
8. ነባሪ ኣየር ቅናት ምድሪ ብምንታይ ተመልኪቱ ኣሎ?

ተምሃሮ ካብቲ ነፍስወከፍ ጉጅለ ዘቐረበቶ ርእይቶ እንታይ ተገንዚብኩም?



ካርታ 2.7 ካርታ ማእኸል ሓደ ከተማ

ብሕድሕድ ጉጀለ ዝቐረቡ ሕብርታት፣ ምልክታትን ምስልታት ተመሳሳሊ መግለጺ ድዮም ዘርእዩ ወይስ ዝተፈላለዩ እዮም? ዝተወሰኑ ልሙዳት ሕብርታት፣ ምልክታትን ምስልታትን ከምዘለውኹ ተገንዚብኩም ዶ? እስቲ ኣብነታት ኣቕርቡ?

መብዛሕትኡ ግዜ ካርታታት ልሙዳት ሕብርታት፣ ምልክታትን ምስልታትን ይጥቀሙ እዮም። ንኣብነት ማያዊ ኣካላት ብሰማያዊ ሕብሪ፣ በረኽቲ ቦታታት ብቡኒ፣ መታሕት ብብጫ ወይ ቆፅለዋይ ሕብሪ ከምኡ እውን ጫፍ እምባታት ብዓዕዳ ሕብሪ፣ ብራኽ ብጫትሮ ኣብ ጎኒ ንእሽተይ ሰሌስ ኩርናዕ ቁፅሪ ብምፅሓፍ ይግለፁ እዮም። ብቐንዱ ነዙይ ዝውስኖ ግን ቁልፊ ካርታ ወይ መፍትሕ ካርታ እዩ።

### ዕዮ ጉጅለ



ተምሃሮ ብጉጅለ ኮይንኩም ዝተፈላለዩ ፖለቲካዊ ካርታታት ተመልከቱ። ነቲ ኣብ ቁልፊ / መፍትሕ/ ካርታ ታሓቢሩ ዘሎ መግለጺ መሰረት ጌርኹም እዞም ዝስዕቡ ሰብ ሰራሕ ነገራት ኣብቲ ካርታ ብምንታይ ዓይነት ሕብሪ፣ ሕንፃ፣ ምስሊ፣ ምልክት ከምዝተገለፁ ኣብ ደፍተርኩም ዕሓፉ። ቐጻልኩም ፀብፃብ ጉጅለኹም ንክፍሊ ኣቕርቡ።

1. ኢንዱስትሪያዊ ኸባቢታት ከመይ ተመልኪቶም ኣለዉ?
2. ዓበይቲ ፅርግያ መንገድታት ከመይ ተመልኪቶም ኣለዉ?
3. መንገዲ ባቡር ከመይ ተመልኪቶም ኣለዉ?
4. ኣብያተ ትምህርቲ ከመይ ተመልኪቶም ኣለዉ?
5. ኣብያተ ክርስትያን ከመይ ተመልኪቶም ኣለዉ?
6. ኣብያተ መስጊድ ከመይ ተመልኪቶም ኣለዉ?

ተምሃሮ! መብዛሕትኡ ግዜ ፖለቲካዊ ካርታታት ልሙዳት ምልክታትን ምስልታትን ይጥቀሙ እዮም። ንኣብነት ኣብ ልዕሊ ሓደ ርቡዕ ኩርናዕ ዝተሰቐለ ሰንደቕ ዓላማን ቤት ትምህርትን የማላኸት። ከምኡ እውን ዝተፈላለዩ ዓይነታት መንገድታት ብዝተፈላለዩ ዓይነት ሕንፃታት ይግለፁ። ሕዚ እውን እቲ ወሰናይ ግና እቲ ኣብ ቁልፊ ካርታ ዝግለፅ እዩ።

ተምሃሮ! ካርታ ዓብይ ጥቕሚ ከምዘለዎ ተገንዚብኩም ኣለኹም። ይኹን እምበር ካብ ካርታ ጥቕሚ ዝርከብ ቐልፊ ካርታ እንትንጥቀም ጥራሕ እዩ። ብመሰረት ቁልፊ ካርታ እቶም ኣብ ካርታ ዘለዉ ሕብርታት፣ ምልክታትን ምስልታትን እንታይ ከምዝውክሉ ተገንዚብና ካብ ካርታ እንደልዮም ዝተፈላለዩ ሓበሬታታት ንረክብ። ቐጻልኩም ብብውልቅኹም ነዚ ዝስዕብ ንጥፈት ሰሪሕኹም ንክፍሊ ኣቕርቡ፡-

1. ዝተፈላለዩ ፊዚካውን ፖለቲካውን ካርታታት ብምርኣይ ካርታታት ብዙሕ ግዜ ዝጥቀሙሎም ልሙዳት ሕብርታት፣ ምልክታትን ምስልታትን ኣለልዩ።
2. ናይ ሓደ ሓሳባዊ ሃገር ካርታ ሰኣሉ። ኣብቲ ካርታ ዝተፈላለዩ ቦታታት ኣቐምጡ። ንኣብነት ቐላይ፣ ሩባ፣ ዶብ-ሃገር፣ ቤተ ክርስትያን፣ መስጊድ፣ ኢንዱስትሪያዊ ኸባቢ፣ ነዳዲ ዝወፀሉ ቦታ፣ መንገዲ ባቡር፣ ፅርግያ ወዘተ ኣቐምጡ።

እቶም ዝተቐመጡ ቦታታት ብቶም ልሙዳት ሕብርታት፣ ምልክታትን ምስልታትን ተወኪሎም ይቀመጡ። ቀሊል ቁልፊ ካርታ ኣዳሊኹም ነፍሰወክፎም እንታይ ከምዝውክሉ ኣርእዩ። ዝኾነ ተምሃራይ ነቲ ቐልፊ ርእዩ ንፁር ሓበሬታ ከምዝረኸበ ኣረጋግፁ።

ብተመሳሰሉ መንገዲ ንድፊ ካርታ ወረዳኹም ወይ ከተማኹም ወይ ጣቢያኹም ሰኣሉ። ነቶም ኣብ ካርታ ዝሰኣልኩምዎም ቦታታት መብርሂ ዝህብ ቁልፊ ካርታ ኣብ ጉኒ እቲ ካርታ ኣቐምጥዎ። ምስ መሓዝትኩም ተመያየጥሉ።

**መጠቃለሊ**

ብሓፈሻ እንትረአዩ ኩሎም ዓይነታት ገፀ ምድሪ ኣብ ክልተ መቐልካ ምርኣይ ይከኣልዮ። ንሳቶም ድማ ክፍለዓለማትን ማያዊ ኣካላትን እዮም። ኣብ ምድርና ሸውዓተ ክፍለ ዓለማት እንትህልዉ ሓሙሽተ ወቅያኖሳት ድማ ኣለዉ። ኣብ ዓለምና ዝርከቡ ማያዊ ኣካላት ብኬሚካላዊ ትሕዝተኦም ብሕልፊ ድማ ብጣዕዎም ጨውነት ዘለዎምን ዘይብሎምን ተባሂሎም ኣብ ክልተ ይምደቡ። ኣብ ክፍለዓለማት ዝርከቡ ቃላያት፣ ናባታትን ካልኦት ማያዊ ኣካላትን መብዛሕትኦም ጨውነት ይብሎምን። ኮይኑ ግና ሓድ ሓደ ጨውነት ዘለዎም ቃላያት ኣለዉ። ኣብ ሰሜን ኣሜሪካ ዝርከብ 'ዓብዪ ቃላይ ጨው' ዝበሃልን ኣብ ዶብ እስራኤልን ዮርዳኖስን ዝርከብ "ምዉት ባሕሪ" ዝበሃል ቃላይን ከም ኣብነት ዝጥቀሱ እዮም።

ኩሎም ቅርፅታት መሬት ምብራቕ ኣፍሪካ ብሓፈሻ እንትረአዩ ኣብ ኣርባዕተ ይምደቡ። ንሳቶም ድማ እምባታት፣ ከበሳታት፣ መታሕትን ሓጓፍ ሸንጥሮን እዮም። ካብ እምባታት ምብራቕ ኣፍሪካ ዝለዓለ ብራሽ ዘለዎም እምባታት ክሊማንጃሮ፣ ኬንያ፣ ናዌንዞሪ፣ ራስ ዳሽን እንትኾኑ እምባ ክሊማንጃሮ ድማ ካብ ክፍለ ዓለም ኣፍሪካ ዝለዓለ ብራሽ ኣለዎ።

ከበሳታት ምብራቕ ኣፍሪካ መብዛሕትኦም ኣብ ኬንያን ኢትዮጵያን ዝርከቡ ኮይኖም ልዑል ብራሽ ዘለዎም ሜዳታት እዮም። መታሕት ምብራቕ ኣፍሪካ ብቐንዶም ብ ገማግም ቀይሕ ባሕርን ወቅያኖስ ህንድን ዝርከቡ ኮይኖም ብራሽኦም ካብ ፀፍሒ ባሕሪ ብዙሕ ዝለዓለ ኣይኮነን። እኳደኣስ ገለገሊኦም ብራሽ ኦም ካብ ፀፍሒ ባሕሪ (ካብ ዜሮ ሜትር) ንታሕቲ እዩ። ንኣብነት-ብራሽ ኮባር ሲንክ 120 ሜትር ትሕቲ ዜሮ እዩ። ዓብዪ ሓጓፍ ሸንጥሮ ኣብ ምብራቕ ኣፍሪካ ፍሉይ ቅርፂ መሬት ዘለዎን ኣዝዩ ጎሊሁ ዝረኣን እዩ። ኣብ ውሽጢ ሓጓፍ ሸንጥሮ ኣዝዮም ብዙሓት ቃላያት ኣለዉ። ካብዚኣቶም ቃላያት ታንጋኒካ፣ ኣልቦርት፣ ኪቩ፣ ሃዋሳ፣ ኤድዋርድን ላንጋኖን ይርከቡዎም።

ከባቢ ኣየር ንምድርና ከም ኮበርታ ሸፊኑዋን ከቢቡዋን ዝርከብ ናይ ዝተፈላለዩ ዓይነታት ጋዝ እኩብ እዩ። ብሓፈሻ እንትረአዩ ኣርባዕተ ፅፍፃፋት ከባቢ ኣየር ኣለዉ። ንሳቶም ድማ ትሮፖስፊር፣ ስትራቶስፊር፣ ሜዞስፊርን ቴርሞስፊርን እዮም። ፅፍፃፍ ከባቢ ኣየር ትሮፖስፊር ንምድርና ዝቐረበን ካብ ኩሎም ካልኦት ፅፍፃፋት ዝለዓለ ትሕዝቶ ጋዛት ዘለዎን እዩ። ካብ ሓፈሻዊ ትሕዝቶ ትሮፖስፊር ኣስታት 78% ዝኸውን ናይ ትሮፖስፊርን እዩ። ስትራቶስፊር ኣብ ልዕሊ ትሮፖስፊር ዝርከብን ብትሕዝትኡ ስሑው ዝበለ ስለዝኾነን ብኣውሮፕላን ንዝገበር ጉዕዞ ምቕው እዩ። ሜዞስፊር ካብ ምድሪ ኣብ መንጎ 50ን 80ን ኪሎሜትር ዝርከብ ከባቢ ኣየር እዩ። ቴርሞስፊር ካብ ምድርና ኣብ ዝለዓለ ብራሽ ዝርከብን ሳብ 1000 ኪሎሜትር ዝበፀሕን እዩ። ኣብ ቴርሞስፊር ብራሽ እንትውሰኽ መጠን ረስኒ'ውን እናወሰኽ ይኸይድ። ብድሕሪ ቴርሞስፊር ዝመፅእ ህዋዮ።

**ማህደረ ቃላት**

| ቁልፊ ቃላት      | ትርጉም / መብራህርሂ                           |
|--------------|---|
| 1 ሕምባባ - ምድሪ | ምንቅስቃስ ምድሪ ኣብ ክል ዘንጋ።                   |
| 2 ዑደት ምድሪ    | ምድሪ ኣብ ዙርያ ፀሓይ እትገብሮ ዙረት።               |
| 3 ምህዋር ምድሪ   | ምድርና ዑደት ምድሪ ከተካይድ እንተሓ ሕትኸተሎ መስመር ጉዕዞ። |
| 4 ክሪምቲ       | ፀሓይ ኣብ ቅርቅርቲ ትርክበሉ ወቕቲ።                 |
| 5 እፅዋት ተፈጥሮ  | ብዘይ ኢድ ኣእታውነት ደቂ ሰባት ብተፈጥሮ ጥራይ ዝሰቑሉ።    |

መጠቻ ስሌት ሕተታት

- ሀ. ነዞም ዝሰዕቡ ሕተታት ትኸኸል ንዝኾኑ ሓቂ ንዘይኮኑ ድማ ሓሶት ብምባል መልሱ።
  - 1. ዝዓቦዩ ክፋል ገፁ-ምድሪ ብማያዊ ኣካላት ዝነኣሰ ክፋሉ ድማ ብደረጃ መሬት ዝተሸፈነ እዩ።
  - 2. ካብ ውቅያኖሳት እቲ ዝሰፍሐ ውቅያኖስ ኣትላንቲክ እዩ።
  - 3. ኣብ መብዛሕተኦም ፈሰስቲ ሩባታትን ቻላያትን ዝርከብ ማይ ጨውነት የብሉን።
  - 4. ሩባ ናይል ካብ ኣፍሪካን ዓለምን ብንውሓቱ ቐዳማይ እዩ።
  - 5. ኩነታት ኣየር ዓለምና ዝውሰን ብመሰረት ኩነታት ትሮፖስፌር እዩ።
  
- ለ. ንንፍስወከፍ ሕተ ካብ ዝቐረቡ መማረፅታት ዝበለፀ ትኸኸለኛ ዝኾነ መልሲ ምረፁ።
  - 1. ብትርብዒት ኪሎ ሜትር እንትዕቀን ስፍሓት ምድሪ ኣስታት ክንደይ ይኸውን?
 

|             |              |
|-------------|--------------|
| ሀ. ፍርቂ ሚልዮን | ለ. ሓደ ሚልዮን   |
| ሐ. ፍርቂ ቢልዮን | መ. ዓሰርተ ቢልዮን |
  - 2. መጠን ደረጃ መሬትን ማያዊ ኣካላትን ዳርጋ ማዕረ ዝኾነሉ ቦታ ኣበይ እዩ?
 

|                     |                    |
|---------------------|--------------------|
| ሀ. ኣብ ሰሜናዊ ንፍቀ ክቢ   | ለ. ኣብ ደቡባዊ ንፍቀ ክቢ  |
| ሐ. ኣብ ምብራቕታዊ ንፍቀ ክቢ | መ. ኣብ ምዕራባዊ ንፍቀ ክቢ |
  - 3. ኣብ መንጎ ክፍለ ዓለማት ኣሜሪካን ኣውሮፓን ዝርከብ ውቅያኖስ መን ይባሃል?
 

|         |           |
|---------|-----------|
| ሀ. ህንዲ  | ለ. ኣርክቲክ  |
| ሐ. ፓሲፊክ | መ. ኣትላንቲክ |
  - 4. ዝለዓለ ብራኽ ዘለዎ ኾይኑ ዝባኑ ሜዳ ዝኾነ ንቕርጺ መሬት እንታይ ይበሃል?
 

|             |         |
|-------------|---------|
| ሀ. እምባ      | ለ. ኸበሳ  |
| ሐ. ሓጓፍ ሽንጥሮ | መ. መታሕት |
  - 5. ኮባር ሲንክ ብምባል ዝፍለጥ
 

|                        |                        |
|------------------------|------------------------|
| ሀ. ኸበሳ እዩ              | ለ. ዝለዓለ ብራኽ ዘለዎ እምባ እዩ |
| ሐ. ትሕቲ ፀፍሒ ባሕሪ ብራኽ ኣለዎ | መ. ገምገም ባሕሪ እዩ         |
  - 6. ካብዘን ዝሰዕባ ሃገራት ምስ ቀይሕ ባሕሪ ዘይትዋሰን ሃገር መን እያ?
 

|         |          |
|---------|----------|
| ሀ. ኤርትራ | ለ. ጂቡቲ   |
| ሐ. ሱዳን  | መ. ኢትዮጵያ |
  - 7. ኣብ ክባቢ ምብራቕ ኣፍሪካ ዝርከብ ውቅያኖስ
 

|         |            |
|---------|------------|
| ሀ. ህንዲ  | ለ. ኣትላንቲክ  |
| ሐ. ፓሲፊክ | መ. ቐይሕ ባሕሪ |

ሐ. ነዞም ዝሰዕቡ ሕቶታት ኣብዝተውሃበ ባዶ ቦታ ትኸክለኻን ቅኑዕን መልሲ ምልኡ

1. እታ ዝሰፍሖት ክፍለ ዓለም \_\_\_\_\_ እንትኾን ዝነኣሰት ድማ \_\_\_\_\_ እያ።
2. \_\_\_\_\_ ዝተበሃለ ቻላይ ብትሕዝቶኡ ብዙሕ ጨው ዘለዎ እዩ።
3. ኣብ ኣፍሪካ ዝለዓለ ብራኽ ዘለዎ እምባ \_\_\_\_\_ ይበሃል።
4. ዓብይ ኣጓፍ ሽንጥሮ ዝበሃል ካብ ሃገር \_\_\_\_\_ ክሳብ ሃገር \_\_\_\_\_ ዝተዘርገሐ እዩ።
5. ብመሰረት መርክቦኦም ቻላያት ምብራቕ ኣፍሪካ ኣብ ክልተ ይምቀሉ። ንሳቶም ድማ  
ሀ. \_\_\_\_\_  
ለ. \_\_\_\_\_
6. ኣብ መንጎ ኬንያ፣ ታንዛንያን ኡጋንዳን ዝርከብ ቃላይ \_\_\_\_\_ እዩ።
7. ንምድርና ከም ኮበርታ ሸፊንዎን ኸቢቡዎን ዝርከብ ናይ ጋዛት እኩብ \_\_\_\_\_ እዩ።
8. ንምድርና ዝቐረበ ቐፀላ ከባቢ ኣየር \_\_\_\_\_ እንትኾን ዝረገገ ድማ \_\_\_\_\_ እዩ።

መ. ኣዲር መልሲ ሃቡ

1. ስም ክፍለ ዓለማት ዘርዝሩ?
2. ካብቶም ኣሙሽተ ውቕያኖሳት ዓለም ናይቶም ኣርባዕተ ስሞም ዘርዝሩ?
3. ምዉት ባሕሪ ዝበሃል ኣበይ ከባቢ ዓለም ዝርከብ እዩ?
4. ነቶም ኣርባዕተ ቐንዲ ፊዚካዊ ገፅታት ምብራቕ ኣፍሪካ ዘርዝሩ?
5. ካብ ረብሓታት ኣጓፍ ሽንጥሮ ክልተ ግለፁ።
6. ካብ ሩባታታት ምብራቕ ኣፍሪካ ሰለስተ ፅርሑ።
7. ስም ኣርባዕተ ፅፍፃፋት ከባቢ ኣየር ዘርዝሩ።
8. ቐንዲ ቐጠባዊ ረብሓታት ማያዊ ኣካላት ምብራቕ ኣፍሪካ ዘርዝሩ።

